

**PROVAS
DE
ESTUDOS SOCIAIS E LÍNGUA ESTRANGEIRA**

Duração: 4 horas

I – ESTUDOS SOCIAIS

1ª PARTE – QUESTÕES DISSERTATIVAS: de 01 a 06. (Utilizar a “Folha de Resposta”.)

A – HISTÓRIA GERAL E DO BRASIL

01. (Utilizar o Espaço 1 da “Folha de Resposta”.)

“A Monarquia brasileira sofreu um processo de abandono e morreu abandonada. Abandonada pelo grupo político, pela classe clerical, pela aristocracia agrária, pela classe militar. Sob esse aspecto pode-se dizer que ela não foi derrubada e sim caiu.

Mas por que foi abandonada? Eis a questão, a verdadeira questão...”

JANOTTI, Aldo. A Monarquia foi abandonada. In: COTRIM, Gilberto. **História do Brasil**. São Paulo, Saraiva, 1983, p. 124.

De acordo com o texto, responda.

- Qual a medida do governo imperial que abalou o apoio da aristocracia rural, principal base de sustentação da monarquia?
- Qual a contribuição do exército brasileiro para a derrocada do regime monárquico?

02. (Utilizar o Espaço 2 da “Folha de Resposta”.)

“A Segunda Guerra Mundial, muito mais do que a Primeira, alterou profundamente a correlação de forças no mundo. Após seis anos de guerra, alguns países ficaram empobrecidos, politicamente desorganizados e com graves problemas sociais, enquanto os vencedores tiveram aumentados o seu poder e a sua ambição.”

(ARRUDA, José Jobson de Andrade. **História Moderna e Contemporânea**. São Paulo, Ática, 1988, p. 191.

Considerando o texto, cite:

- os blocos em que o mundo se dividiu após a Segunda Guerra e os países que os lideram até os nossos dias.
- duas conseqüências políticas da Segunda Guerra Mundial.

B – ORGANIZAÇÃO SOCIAL E POLÍTICA DO BRASIL

(Preencher o Espaço 3 da “Folha de Resposta”.)

XOTE ECOLÓGICO

Agnaldo Batista e Luis Gonzaga

*Não posso respirar
Não posso mais nadar
A terra está morrendo
Não dá mais prá plantar
E se plantar não nasce
E se nascer não dá
Até pinga da boa
É difícil de encontrar*

*Cadê a flor daqui
Poluição comeu
O peixe que é do mar
Poluição comeu
O verde onde é que está
Poluição comeu
Nem o Chico Mendes sobreviveu*

A Constituição brasileira atual dedica um capítulo especial à questão da proteção ao ambiente.

Estabeleça uma relação entre esta afirmativa e os versos da canção acima.

(Preencher o Espaço 4 da “Folha de Resposta”.)

Por que a última eleição presidencial foi considerada de grande importância para a política do país?

C – GEOGRAFIA GERAL E DO BRASIL

05. (Utilizar o Espaço 5 da "Folha de Resposta".)

Atualmente, a realidade dos países subdesenvolvidos suscita uma série de idéias questionáveis; dentre elas, destaca-se a noção de que o subdesenvolvimento seria apenas uma situação de atraso, como se tais países se assemelhassem a crianças ou adolescentes, que depois se tornariam adultos. Portanto, o desenvolvimento, (ou "progresso") seria algo normal, que aconteceria com o tempo.

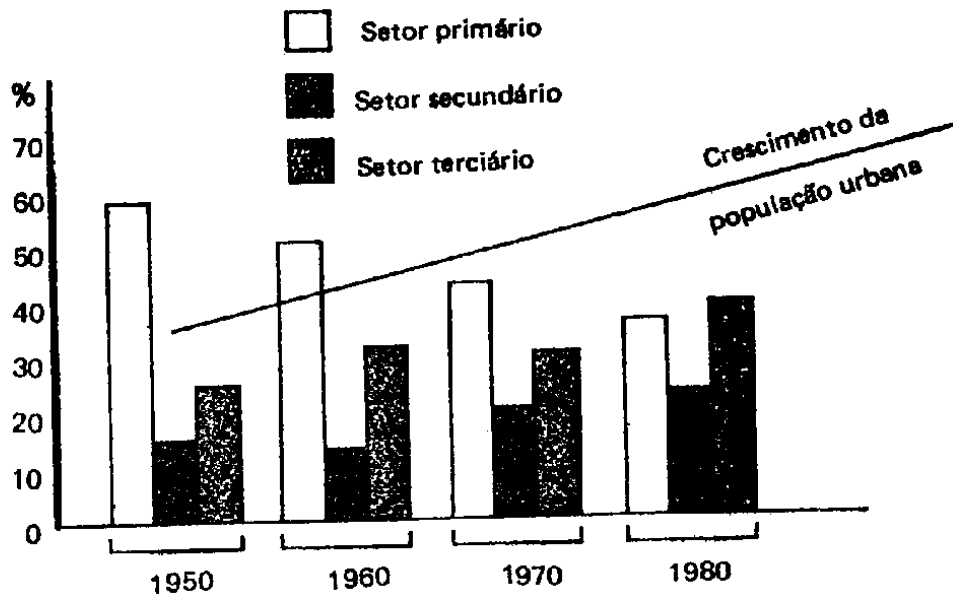
Considerando o texto acima, responda as questões:

- Subdesenvolvimento significa apenas atraso econômico ou social? Justifique.
- Dentro do sistema capitalista, o que significa "áreas centrais" e "áreas periféricas"?

06. (Utilizar o Espaço 6 da "Folha de Resposta".)

Com base no gráfico abaixo, relacione o crescimento da população urbana brasileira com as mudanças ocorridas na sua distribuição por setores de atividades.

BRASIL: EVOLUÇÃO DA POPULAÇÃO URBANA E DISTRIBUIÇÃO SETORIAL DA POPULAÇÃO ATIVA

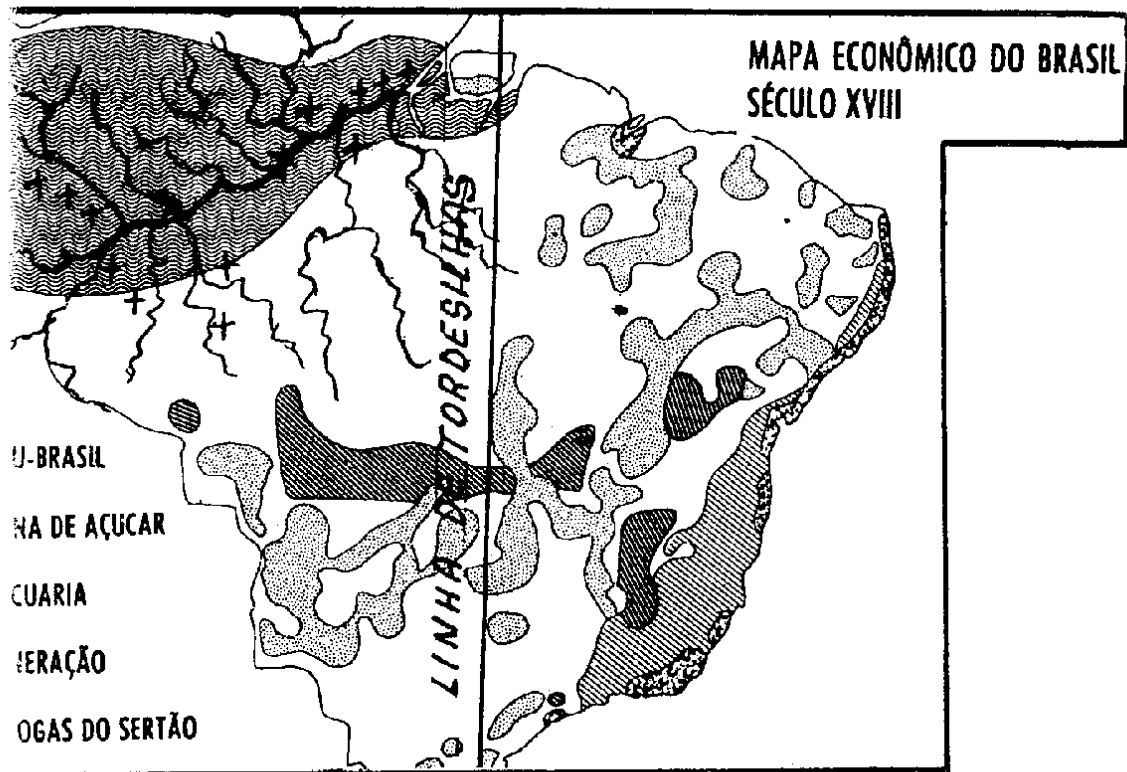


— QUESTÕES DE PROPOSIÇÕES MÚLTIPLAS: de 01 a 10. (Utilizar o cartão-resposta A)

As questões contêm, cada uma, 05 (cinco) proposições. Para respondê-las, assinale o algarismo da coluna (I), à esquerda, se julgar a proposição verdadeira e o da coluna (II), à direita, se considerada falsa.

Em seguida, passar as assinalações para o cartão-resposta A, perfurando as quadrículas correspondentes (não levar em consideração as quadrículas de 5 a 9).

A — HISTÓRIA GERAL E DO BRASIL



Com base no processo de ocupação territorial do Brasil, ocorrido nos séculos XVI a XVIII, e cujas bases estão expostas no mapa acima, pode-se dizer que:

II)

- 0 — a ocupação do litoral nordestino baseou-se na atividade agro-exportadora da cana-de-açúcar.
- 1 — o processo de interiorização do Nordeste teve como suporte econômico a atividade mineradora.
- 2 — a ocupação da Amazônia ocorreu em função do extrativismo e da ação missionária.
- 3 — a obediência aos limites estabelecidos pelo Tratado de Tordesilhas impediu o avanço das Bandeiras e a possibilidade de expansão do domínio colonial português.
- 4 — a Paraíba manteve autonomia econômica, durante a fase colonial, face à implantação de atividades diferenciadas em relação às capitanias vizinhas.

02. Sobre as bases e desenvolvimento da Revolução Industrial pode-se afirmar que:

(I) (II)

- 0 0 – a Inglaterra foi o primeiro país a desenvolver um processo de industrialização, apoiado pelo capital acumulado na expansão do comércio em escala mundial.
- 1 1 – a proletarização e a prática do assalariamento significaram a separação entre o capital e o trabalho.
- 2 2 – a Igreja manteve-se distante da discussão e buscou ignorar as transformações sociais resultantes da Revolução Industrial.
- 3 3 – o capitalismo e o socialismo se apoiam em uma mesma concepção de Estado, bem como de relação entre as classes sociais.
- 4 4 – a formulação das doutrinas do liberalismo econômico e do socialismo se liga ao desenvolvimento e consolidação do capitalismo.

03. *“Começa com o Pró-Terra
financiando o gado e a cana
As terras se valorizam
a negociata se dava*

*Lavouras são destruídas
famílias pobres, varridas
a ambição fica insana.”*

O trecho da “Cantata prá Alagamar”, de W. J. Solha, atenta para a questão agrária, que, na década atual, na Paraíba é marcada pelo(a):

(I) (II)

- 0 0 – aumento da concentração fundiária.
- 1 1 – ausência de conflitos no campo, com solução imediata dos problemas surgidos pela posse da terra e por direitos trabalhistas.
- 2 2 – queda do êxodo rural, com maior fixação do homem ao campo.
- 3 3 – ampliação das terras destinadas ao plantio da cana-de-açúcar e ao criatório.
- 4 4 – ação protetora do Estado, prioritariamente, à pequena produção.

B – ORGANIZAÇÃO SOCIAL E POLÍTICA DO BRASIL (OSPB)

04. *“... Nas sociedades industriais do fim do século vinte o principal inimigo da liberdade individual nem sempre é o poder público. Frequentemente um indivíduo ou um poderoso grupo econômico reduzem seriamente a liberdade de muitos indivíduos, ou mesmo de um povo inteiro, por meio da dominação econômica.”*

(DALLARI, Dalmão de Abreu. Constituição e Constituinte, p. 13, In: VITA, Álvaro de. Nossa Constituição, p. 14)

Desta afirmativa pode-se deduzir que:

(I) (II)

- 0 0 – os donos do poder econômico, geralmente, têm o controle do poder político.
- 1 1 – o poder público é inteiramente descomprometido com o poder econômico.
- 2 2 – a liberdade individual e a liberdade coletiva estão ligadas à independência econômica.
- 3 3 – o poder público é exercido para o bem comum em qualquer sociedade.
- 4 4 – a redução da liberdade se justifica em função do progresso econômico.

Tem-se afirmado que prevalece no Brasil um capitalismo dependente e periférico. Dentre outras características deste tipo de capitalismo, pode-se citar:

I) (II)

- 0 0 — o predomínio do capital estrangeiro na economia.
- 1 1 — a intervenção do Estado na distribuição de incentivos à acumulação privada.
- 2 2 — a incorporação efetiva das massas às normas modernas de produção e consumo.
- 3 3 — a participação política dos mais fracos e menos favorecidos.
- 4 4 — a elevação permanente do custo de vida, desemprego e violência urbana.

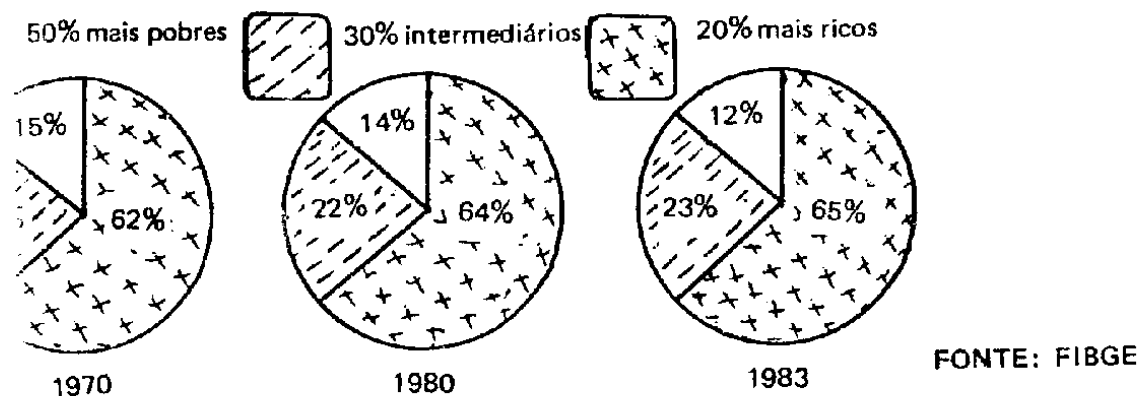
Dentre as origens históricas e condições atuais para os desequilíbrios regionais, pode-se considerar:

) (II)

- 0 — a concentração industrial, financeira e tecnológica no Centro-Sul do país.
- 1 — a participação do capital estrangeiro nas mesmas áreas favorecidas pelo capital nacional.
- 2 — a inviabilidade econômica das terras do Nordeste e dificuldades de ocupação da Amazônia.
- 3 — o fluxo migratório muito grande das regiões pobres para as regiões ricas.
- 4 — a política econômica incapaz de estimular a descentralização industrial e de criar novos pólos industriais.

Analisando-se os gráficos abaixo, pode-se concluir que:

L — DISTRIBUIÇÃO DA RENDA, 1970, 1980 e 1983



() (II)

- 0 0 — os modelos econômicos brasileiros têm possibilitado, gradativamente, uma distribuição de renda mais equilibrada.
- 1 1 — os salários pagos à massa dos trabalhadores e os lucros dos pequenos proprietários têm contribuído para diminuir as desigualdades de renda.
- 2 2 — a renda "per capita" brasileira cresceu mais nas camadas mais ricas e menos nas camadas mais pobres.
- 3 3 — os lucros dos grandes capitalistas nacionais e estrangeiros são muito altos.
- 4 4 — são positivos os efeitos do processo de desenvolvimento econômico para a população como um todo.

C – GEOGRAFIA GERAL E DO BRASIL

08.

PAÍSES	RENDA "PER CAPITA" (EM DÓLARES, 1986)			quociente entre A e B
	da população total	dos 10% mais ricos	dos 40% mais pobres	
		A	B	
ESTADOS UNIDOS	14110	32876	6067	5,4
HOLANDA	9890	21263	5538	3,8
JAPÃO	10120	22668	5542	4,0
MÉXICO	2240	9094	554	16,4
BRASIL	1880	9488	329	28,8

De acordo com a tabela acima, conclui-se que:

(I) (II)

- 0 0 – o Brasil apresenta menos contrastes sociais que o México, pois a sua renda é ligeiramente superior à do Mexico.
- 1 1 – a Holanda é o país que apresenta uma distribuição da renda nacional menos heterogênea.
- 2 2 – o quociente entre "A" e "B" nos dá uma idéia da distribuição da renda e das desigualdades sociais.
- 3 3 – os Estados Unidos possuem as maiores desigualdades de distribuição da renda, em virtude de sua renda "per capita" ser de 14110 dólares.
- 4 4 – a população japonesa é a mais rica do mundo, pois a renda "per capita" dos 10% mais ricos é de US\$ 22668.

09.

DISPONIBILIDADE DE BENS DE CONSUMO

PAÍSES		POPULAÇÃO (milhões)	AUTOMÓVEIS (milhões)	TELEFONES (milhões)	TELEVISORES (milhões)
GRUPO "A"	ESTADOS UNIDOS	238,7	140	120	220
	JAPÃO	120,2	42	45	32
	ALEMANHA OC.	61	30	29	23
GRUPO "B"	ALEMANHA OR.	17	3,5	0,5	6
	ÍNDIA	760	16	3	3
	POLÔNIA	37,5	5,5	2	8,6

De acordo com a tabela acima, pode-se afirmar que:

(I) (II)

- 0 0 – os países do grupo "A" são sociedades de consumo.
- 1 1 – os países do grupo "B" pertencem ao 2º e 3º Mundo.
- 2 2 – a Polônia e a Alemanha Oriental apresentam uma proporção de bens de consumo por habitante superior à da Índia.
- 3 3 – cada cidadão americano dispõe de 1,4 automóveis, 1,2 telefones e 2,2 televisores, enquanto cada indiano tem apenas a metade.
- 4 4 – a Alemanha Ocidental apresenta um nível de vida inferior ao da Alemanha Oriental e superior ao dos Estados Unidos.

No que se refere às grandes Organizações Internacionais da atualidade, pode-se afirmar que:

(1) (11)

- 0 0 — o BENELUX está integrado à política econômica e militar da ALADI e do Pacto de Varsóvia.
- 1 1 — o Pacto de Varsóvia significa, do ponto de vista militar, o oponente do MCE; ao passo que o COMECON representa uma tentativa de integração da economia mundial ao AELC, ONU, OTAN e ALADI.
- 2 2 — as políticas integracionistas na América Latina encontram o seu corolário no BENELUX e no COMECON, juntamente com o Pacto de Varsóvia.
- 3 3 — apesar de a ONU ter exercido importante papel no processo de descolonização, nela predominam os interesses das grandes potências.
- 4 4 — os dois mais importantes Tratados Militares da atualidade são a OTAN (liderada pelos EUA) e o Pacto de Varsóvia (liderado pela URSS).

PARTE — QUESTÕES DE MÚLTIPLA ESCOLHA: de 01 a 30. (Utilizar o Cartão-Resposta de tarja VERDE)

Perfurar no cartão-resposta, em cada uma das questões, apenas a alternativa considerada correta.

A — HISTÓRIA GERAL E DO BRASIL

A cultura brasileira, no período colonial, é caracterizada pelo(a)

- a) forte estímulo da metrópole à produção científica e cultural, garantindo a livre manifestação do pensamento.
- b) ausência de elementos culturais de origem negra e índia, face ao baixo nível cultural e à situação de dependência a que se achavam submetidos.
- c) presença de uma literatura representada, no século XVI, sobretudo pelos escritos dos religiosos e dos cronistas / viajantes.
- d) expansão das universidades, bibliotecas, tipografias, visando à formação da consciência colonial, necessária à conservação da situação de dependência.
- e) ausência de uma arquitetura militar e religiosa face às restrições econômicas impostas pela metrópole.

Sobre o processo de formação do Estado nacional brasileiro, é correto afirmar-se que:

- I — a unidade nacional construída pelos setores dominantes garantiu a sustentação de um Estado centralizado e conservador sob o regime monárquico.
- II — a sociedade brasileira sofreu uma profunda transformação, em decorrência do desenvolvimento das manufaturas que modificou a antiga estrutura agro-exportadora de base escravista.
- III — a Constituição de 1824, promulgada pela Assembléia Constituinte, concedeu plena autonomia legislativa às Províncias, instaurando uma fase de paz interna.

Está(ão) correta(s) apenas a(s) afirmativa(s):

- a) I b) II c) III d) I e II e) II e III

03. PROPOSIÇÃO Nº 1

“O progresso realizado na economia brasileira na segunda metade do século XIX, que teve como fator preponderante a enorme expansão da produção cafeeira, não se repartiu por igual por todas as regiões...”

(DANTAS, José e TEIXEIRA, Francisco. *História do Brasil : da Colônia à República*. São Paulo, Ed. Moderna, 1979, p. 229)

Sobre as proposições acima, pode-se afirmar que

- a) ambas são verdadeiras e a segunda justifica a primeira.
- b) ambas são verdadeiras e a segunda contradiz a primeira.
- c) apenas a primeira é verdadeira.
- d) apenas a segunda é verdadeira.
- e) ambas são falsas.

PROPOSIÇÃO Nº 2

“...essa atividade [cafeeira] se concentrou na parte centro-leste, provocando assim um deslocamento do eixo econômico do país [...] levando a estagnação às velhas e tradicionais atividades, como as do açúcar e algodão.”

04. Com o golpe de 1964, que destituiu o Presidente João Goulart, tiveram início os governos militares que se caracterizaram pelo(a):

- I — reconhecimento das divergências político-ideológicas, através da adoção do pluripartidarismo.
- I I — patrulhamento ideológico, perseguição e eliminação de lideranças que contestavam o sistema.
- I I I — participação das camadas populares na vida política do país, com o fortalecimento de canais de representação popular.

Está(ão) correta(s) apenas a(s) afirmativa(s)

- a) I
- b) II
- c) III
- d) I e II
- e) II e III

05. *“Yanomani é gente como a gente. Vamos fazer força para que não acabem com esse irmão nosso em nome do progresso.”* (Carlos Drummond de Andrade, 1979.

*“A Guerra é contra a invasão da terra dos nossos irmãos.
A Guerra é contra a falta de respeito, moral e cívico.”*

(Discurso de José Augusto da Silva, da aldeia potiguar Tramataia, no I Encontro Potiguara: uma nova Esperança).

A questão indígena tem sido associada à ecológica e merecido a atenção de setores expressivos tanto da sociedade brasileira como de organismos internacionais. Considerando-se o exposto, e, com base nos textos acima, infere-se que:

- I — a preservação dos valores tradicionais tem garantido à nação potiguara se manter isolada e imune ao avanço dos interesses capitalistas.
- I I — a ação do Estado, através da FUNAI, tem sido eficaz na defesa das terras indígenas, impedindo a adoção de projetos que desrespeitem a relação do índio com a natureza.
- I I I — a articulação entre a questão indígena e a ecológica, sobretudo a da defesa da Amazônia, resulta das contradições inerentes à ampliação do capitalismo.

Está(ão) correta(s) apenas a(s) afirmativa(s)

- a) I
- b) II
- c) III
- d) I e II
- e) II e III

“Preciso de vós, trabalhadores do Brasil, meus amigos, meus companheiros de uma longa jornada; preciso de vós, tanto quanto precisais de mim (...) preciso que formeis um bloco forte e coeso ao lado do governo, para que este possa dispor de toda a força de que necessita para resolver os vossos próprios problemas.” GETÚLIO VARGAS, Discurso (1951). In: ALENÇAR, Francisco e outros. **História da Sociedade Brasileira**. Rio de Janeiro. Ao Livro Técnico, 1980, p. 293.

O texto do discurso de Getúlio Vargas expressa a fórmula política desenvolvida pelo seu governo, que se denomina

- a) tenentismo b) populismo c) integralismo d) messianismo e) socialismo

“Ó senhor de todos! Rei de todas as casas. Nas regiões mais distantes, fazes o Nilo celeste para que desça como chuva e açoite as montanhas, como um mar para regar os campos e jardins estranhos. Acima de tudo, porém, fazes o Nilo do Egito que emana do fundo da terra. E assim, com os teus raios, cuidas de nossas hortas. Nossas colheitas crescem, e crescem por ti (...) Tu estás em meu coração. Eu te conheço, sou teu filho, Aquenaton. Tu me revelaste os teus planos e o teu poder. (...)

AQUINO, Rubim e outros. **História das Sociedades**. Rio de Janeiro, Ao Livro Técnico, 1980, p. 92.

Pela leitura do texto acima, extraído do Hino a Aton, oração do faraó à divindade, pode-se inferir que no Egito Antigo

a crença num único deus condicionou a formação de uma sociedade igualitária, onde não havia divisão de classes sociais.

a base econômica assentada na atividade mercantil favoreceu a formação de um sistema econômico caracterizado pela ausência de controle do Estado.

o culto se restringiu à adoração ao monarca, excluindo a formação de uma classe sacerdotal, dotada de amplos poderes.

as concepções religiosas dos egípcios impediram o desenvolvimento das manifestações artísticas e científicas.

o Estado teocrático se consubstanciou na figura do faraó, considerado a personificação da divindade.

Sobre a civilização Grega é correto afirmar-se que:

I – os princípios democráticos, dominantes na Grécia, impediram a existência de uma população escrava.

II – a conquista da Grécia, por Alexandre da Macedônia, desestruturou a Pólis, abrindo caminho para a integração da cultura grega com a do Oriente Médio.

III – a filosofia, uma das principais manifestações do espírito grego, teve papel fundamental na formulação do pensamento do mundo ocidental.

Está(ão) correta(s) apenas a(s) afirmativa(s)

a)

b) II

c) III

d) I e II

e) II e III

09. *“... graças ao trono de Pedro, o prestígio de Roma não para de crescer aos olhos dos bárbaros, e particularmente, dos francos vitoriosos: quando o seu rei quiser restaurar o império, será em Roma que receberá a Coroa. O Império cristão do Ocidente terá então caído nas mãos de um bárbaro, mas esse bárbaro será ele próprio um cristão que restaurará o Império e que todos, no Ocidente, terão por herdeiro legítimo das tradições romanas.”*

AQUINO, Rubim e outros. **História das Sociedades**. Rio de Janeiro, Ao Livro Técnico, 1980, p. 309.

Considerando-se o texto, conclui-se que:

- I – a cultura romana não conseguiu sobreviver às crises políticas, econômicas e sociais da desagregação do Império Romano, não influenciando na formação do mundo ocidental.
- II – o cristianismo, de religião perseguida na Antiguidade, passou a desempenhar um importante papel político, econômico e social no período medieval.
- III – a não aceitação da religião cristã pelos bárbaros dificultou o processo de construção de uma nova sociedade, após a queda do Império Romano do Ocidente.

Está(ão) correta(s) apenas a(s) afirmativa(s)

- a) I b) II c) III d) I e II e) I e III

10. O reinado de Justiniano (527-565) foi um dos períodos marcantes do Império Bizantino. Visando a reagir contra a orientalização do Império e o domínio dos bárbaros no Ocidente, Justiniano procurou:

- I – reunificar o império romano, conquistando territórios perdidos pelo Império Romano do Ocidente.
- II – dotar o Estado de um eficiente sistema jurídico, através da compilação de um conjunto de leis, que se consubstanciou no “Corpus Juris Civilis”.
- III – desvincular o poder temporal do espiritual, evitando a ligação entre o poder de chefe de Estado e o de chefe religioso.

Está(ão) correta(s) apenas a(s) afirmativa(s)

- a) I b) II c) III d) I e II e) I e III

11. Sobre o Renascimento, pode-se afirmar que:

- I – o movimento se desenvolveu em várias regiões da Europa Ocidental e, embora apresentando elementos comuns, não foi uniforme em suas manifestações.
- II – as bases sobre as quais se assentou foram oriundas das civilizações antigas que se desenvolveram no Oriente Próximo.
- III – os seus princípios de valorização do homem, nacionalismo e individualismo se identificaram com o pensamento da burguesia em ascensão.

Está(ão) correta(s) apenas a(s) afirmativa(s)

- a) I b) II c) III d) I e II e) I e III

“Como habitantes da América Latina e integrantes do Terceiro Mundo, estamos, “sob o signo trágico do subdesenvolvimento...” juntamente com os povos da Ásia e da África.”

AQUINO, Rubim e outros. *História das Sociedades*. Rio de Janeiro, Ao Livro Técnico, 1980, p. 368.

A situação descrita está caracterizada na alternativa

- a) persistência dos efeitos econômicos e sociais da herança colonial, aos quais se agregam os interesses mercantis e financeiros do capital externo.
- b) controle dos mercados para os seus produtos, possibilitando a fixação de altos preços para as matérias-primas exportáveis.
- c) autonomia tecnológica e forte mercado consumidor interno garantidor da demanda de bens industriais.
- d) unidade política e econômica, através da criação de um bloco de nações do Terceiro Mundo, capaz de defender os interesses comuns.
- e) controle das operações financeiras e adoção de políticas autônomas para pagamento da dívida externa.

B – ORGANIZAÇÃO SOCIAL E POLÍTICA DO BRASIL

O Analfabeto Político

(Bertold Brecht)

O pior analfabeto

é o analfabeto político.

Ele não ouve, não fala nem participa dos acontecimentos políticos.

Ele não sabe que o custo de vida, o preço do feijão, do peixe, da farinha, do aluguel, do sapato e do remédio dependem das decisões políticas.

O analfabeto político é tão burro que se orgulha e estufa o peito dizendo que odeia política.

Não sabe o imbecil que, de sua ignorância política, nasce a prostituta, o menor abandonado, o assaltante e o pior de todos os bandidos, que é o político vigarista, pilantra, corrupto e lacaio das empresas nacionais e multinacionais.

Analisando-se o poema, pode-se deduzir que:

- I – a responsabilidade pela má qualidade de vida de um povo deve ser atribuída ao seu baixo nível de instrução.
- I I – há uma diferença essencial entre o analfabeto (indivíduo sem escolarização) e o analfabeto político (indivíduo sem consciência política).
- I I I – a manutenção da ignorância política é garantia para a corrupção, a desigualdade e a exploração.

Está(ão) correta(s) somente a(s) afirmativa(s)

a) II

b) III

c) I e II

d) I e III

e) II e III

14. Num regime democrático, a participação popular no governo se dá através do(da)
- voto livre e pluripartidarismo.
 - liberdade de culto e ideologia.
 - liberação dos sindicatos.
 - democratização do sistema educacional.
 - atuação dos movimentos sociais.
15. Dentre os fatores que contribuíram para o processo de transição democrática no Brasil, pode-se apontar:
- a intensificação dos movimentos sociais na luta por condições mais dignas de vida.
 - o pacto político entre forças progressistas e conservadoras com a finalidade de garantir a democracia.
 - a limitação do número de partidos políticos legalizados a fim de concentrar a luta política.
- Está(ão) correta(s) somente a(s) afirmativa(s)
- I
 - II
 - III
 - I e II
 - II e III
16. A informação é um bem público e para tanto é necessário
- manter o monopólio da informação como forma de garantir a sua qualidade.
 - existir uma lei que garanta a pluralidade da informação em todos os seus aspectos.
 - impedir a avaliação das massas que são incapazes de emitir julgamentos corretos.
 - desvinculá-la dos processos culturais e contemporâneos.
 - incentivar o ensino privado como forma de criar uma elite pensante que controle a formação da opinião pública.
17. A análise do quadro abaixo permite concluir que:

AGRICULTURA E POPULAÇÃO (taxas médias anuais de crescimento, % sobre dez anos)		
Período	Agricultura	População
50/59	4,50	2,99
60/69	3,55	2,89
70/79	5,21	2,48

FONTE: FIBGE. Tabulações de 80. Relatório do Banco Central - 32.
Revista Brasileira de Economia, set. 82

- a política agrícola brasileira tem incentivado o cultivo dos produtos básicos para atender satisfatoriamente o consumo interno.
 - o crescimento da produção agrícola tem superado o crescimento populacional.
 - não é a falta de produção agrícola que justifica o aumento de preços, dificuldades de abastecimento, fome e desnutrição.
- Está(ão) correta(s) somente a(s) afirmativa(s)
- I
 - II
 - III
 - II e III
 - I e III

“...a dívida nasceu com a Independência, cresceu no Império e na República e multiplicou-se mais em consequência de operações de consolidação e de “fundings” do que da utilização de recursos de capital para obras reprodutivas... não se pode compreender que uma Nação trabalhe para transferir os seus recursos às mãos dos credores, sem possibilidade de reservar desses recursos a parcela suficiente ao custeio de suas necessidades. Os encargos da dívida não podem anular o direito de subsistência dos povos...”

(Arthur Souza Costa, In: Victor, Luis Fernando. Revista Terceiro Mundo, nº 118.)

O texto, escrito em 1945, coincide com uma tendência atual que aponta:

- I -- a irracionalidade do pagamento da dívida externa, face a seu custo social e impossibilidades econômicas.
- II -- a utilização dos empréstimos, prioritariamente, para fins de reprodução de capital e não de execução de projetos produtivos para o desenvolvimento do país.
- III -- a necessidade de um sacrifício coletivo para saldar logo os compromissos, por meio de uma política de salários baixos, juros altos e produção para exportação.

Está(ão) correta(s) somente a(s) afirmativa(s)

- a) II b) III c) I e II d) II e III e) I e III

C – GEOGRAFIA GERAL E DO BRASIL

19. Entre 1940 e 1970, houve um maior crescimento natural ou vegetativo da população brasileira. Tal fato ocorreu em função da(do)
- permanência de altas taxas de natalidade associadas à redução das taxas de mortalidade.
 - estímulo à política de imigração estrangeira, sobretudo, no Sul do país.
 - manutenção de taxas elevadas de natalidade e mortalidade.
 - melhoria das condições sanitárias, aumento da renda "per capita", progressos da medicina, campanhas de vacinação, etc.
 - ampliação da esperança de vida, que passou a ser, em média, de 70 anos.

20. No início do século passado, um produto representou 20% das nossas exportações (3º lugar), passando a ocupar o 1º lugar (com 60%), no final do século. Hoje, sua importância relativa vem diminuindo, embora o Brasil continue como seu maior produtor e exportador. Trata-se do
- a) petróleo b) café c) minério de ferro d) óleo de soja e) gado bovino

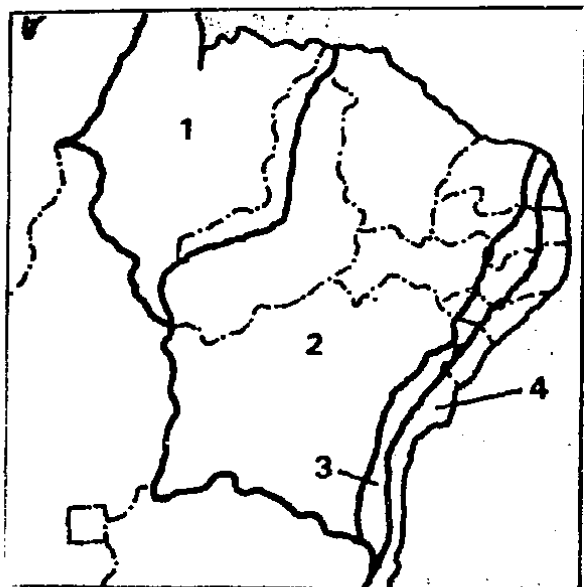
21.

PROPOSIÇÃO Nº 1	PROPOSIÇÃO Nº 2
<p><i>A propriedade capitalista visa, em primeiro lugar, ao lucro e não à utilização produtiva da terra; muitas vezes esse regime de propriedade deixa a terra inexplorada apenas para utilizá-la como negócio de compra e venda.</i></p>	<p><i>Os conflitos entre os capitalistas e os posseiros ou pequenos proprietários de terras, comuns atualmente no país, são apenas desavenças entre empresários, já que todos são proprietários da mesma forma.</i></p>

Sobre as proposições acima, pode-se afirmar que

- ambas são verdadeiras e a segunda confirma a primeira.
 - apenas a segunda é verdadeira.
 - apenas a primeira é verdadeira.
 - ambas são falsas.
 - ambas são verdadeiras e a segunda contradiz a primeira.
22. Sobre os problemas ambientais dos grandes centros urbanos, pode-se afirmar que:
- I – os problemas ecológicos são mais intensos nas grandes cidades que nas pequenas ou no meio rural.
 - II – nas grandes aglomerações urbanas, normalmente faz mais calor e chove um pouco mais que nas áreas rurais vizinhas. Há um aumento das médias térmicas que constitui uma "ilha do calor".
 - III – O fenômeno da urbanização provoca uma diminuição das médias de temperaturas e dos índices pluviométricos. São famosas as "inversões térmicas" das metrópoles.
- Está(ão) correta(s) apenas a(s) afirmativa(s)
- a) II e III b) I, II e III c) I e III d) I e) I e II

23. O cartograma abaixo apresenta quatro áreas que se destacam por uma atividade econômica dominante. Numerando-se os parênteses contidos na legenda



- () Agreste (policultura).
- () Zona da Mata (monocultura canavieira).
- () Meio Norte (extrativismo).
- () Sertão Nordestino (pecuária extensiva).


a seqüência correta obtida é

- a) 4132
- b) 1234
- c) 2314
- d) 3412
- e) 1243

24. O litoral paraibano possui um grande potencial turístico ligado à beleza de suas praias, destacando-se, na direção norte/sul, as seguintes:

- a) Baía da Traição, Lucena, Bessa, Tambaú, Gramame e Pitimbu.
- b) Barra de Mamanguape, Pitimbu, Bessa, Tambaú, Gramame e Formosa.
- c) Pitimbu, Gramame, Tambaú, Lucena, Baía da Traição e Mamanguape.
- d) Tambaú, Gramame, Tambaba, Pitimbu e Areia Dourada.
- e) Bessa, Tambaú, Tambaba, Penha, Gramame e Areia Dourada.

25. O corte topográfico abaixo representa as principais unidades de relevo da Paraíba. Numerando-se os parênteses contidos na legenda



Legenda

- () Depressão Sertaneja
- () Depressão
- () Planalto da Borborema
- () Baixada Litorânea
- () Baixos Planaltos ou Tabuleiros

a seqüência correta obtida é

- a) 15423
- b) 12345
- c) 35421
- d) 25314
- e) 53412

26. No que se refere ao processo de industrialização dos países subdesenvolvidos, é correto afirmar que:

- I — a indústria surge em decorrência da acumulação de capital e do domínio de uma tecnologia avançada.
- II — a industrialização realiza-se segundo os interesses dos países centrais.
- III — as transnacionais, após a Segunda Guerra Mundial, procuraram se instalar em países periféricos a fim de ampliar seus lucros.
- IV — os Estados periféricos promovem sua industrialização com base no capital nacional.

Estão corretas apenas as afirmativas

- a) I e II b) II e III c) I, II e III d) I e IV e) III e IV

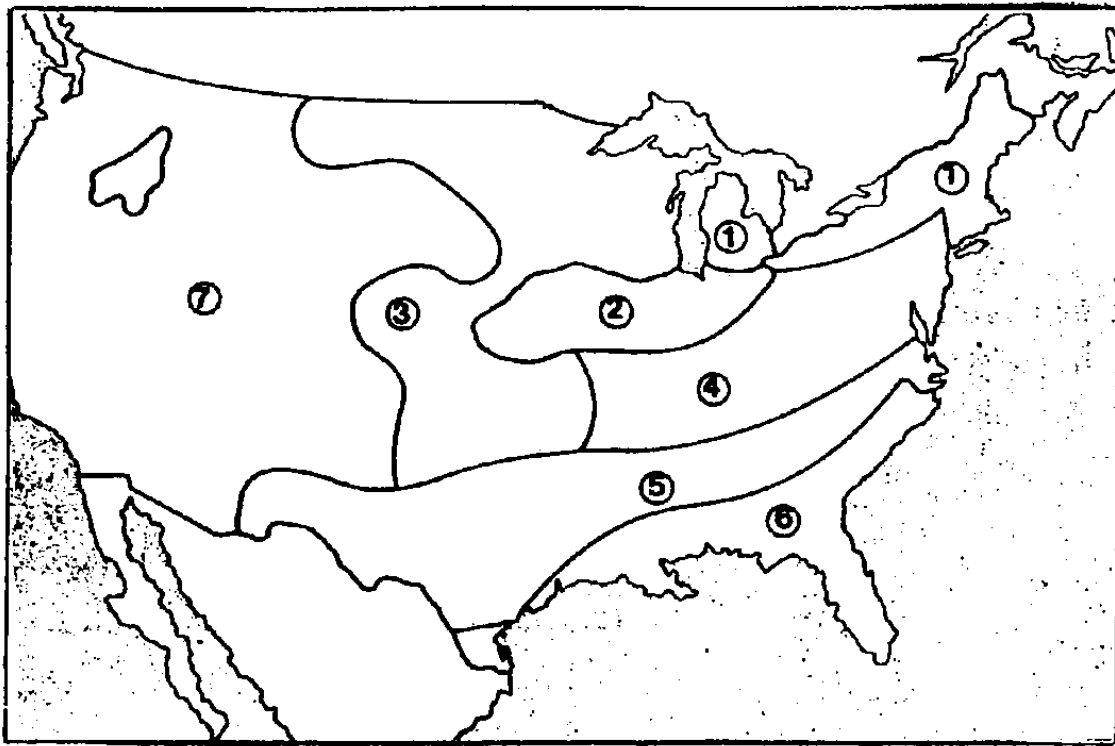
27. Apesar das crises político-econômicas da Argentina, ela ainda apresenta os melhores níveis de qualidade de vida da América Latina. Tal fato se explica em função dos seguintes fatores:

- a) herança de um passado colonial de melhor qualidade e aplicação de uma reforma agrária mais eficaz que se refletiu na vida urbana.
- b) forte emigração dos jovens, maior parque industrial da América do Sul, inexistência de migração campo-cidade, etc.
- c) grande desenvolvimento cultural, subsídios oficiais à educação, sistemas mais aperfeiçoados de proteção ao trabalhador, etc.
- d) rápida industrialização, que se desencadeou no início do século, aliada à formação de um grande mercado consumidor interno.
- e) políticas populistas dos presidentes argentinos, não permitindo fortes concentrações de renda nas mãos de minorias.

28. Os acontecimentos que envolveram estudantes e tropas do governo da China foram reflexos de uma abertura no Mundo Socialista, iniciada por Gorbachev com a *Perestroika*. Com base nesta afirmação, conclui-se que

- a) a ânsia pela renovação, hoje apresentada em todo o Mundo Socialista, ampliou a liderança militar soviética.
- b) os estudantes chineses, através de suas manifestações, repudiaram os princípios básicos de Mao-Tse-Tung.
- c) os princípios de liberdade da *Perestroika* levaram os chineses a uma luta pela volta ao sistema capitalista.
- d) a União Soviética sempre liderou o socialismo mundial, principalmente, o chinês.
- e) o socialismo chinês não dispõe de estrutura político-social capaz de enfrentar mudanças.

O cartograma abaixo representa o zoneamento agrícola dos Estados Unidos. Numerando-se os parênteses contidos na legenda



- () Cinturão do leite
- () Cinturão do trigo
- () Cinturão do milho
- () Cinturão do algodão
- () Pecuária de corte
- () Culturas variadas
- () Culturas subtropicais.

a seqüência correta obtida é

- a) 3754621 b) 3217546 c) 1574632 d) 1325746 e) 476523

Entre os países de economia planificada, há nações superindustrializadas, como a URSS, Alemanha Oriental e Tchecoslováquia; por outro lado, há nações agrícolas e de industrialização restrita, como o Vietnã e Cuba. Contudo, não se pode incluir estes países socialistas mais pobres no mundo subdesenvolvido, pois

- a) a renda nacional desses países é mais elevada que a dos países subdesenvolvidos.
- b) sua economia estaria melhor enquadrada no 3º e 4º mundo.
- c) sua renda "per capita" é semelhante à dos países desenvolvidos.
- d) a população desses países socialistas pobres apresenta menos desigualdades sociais que a dos países subdesenvolvidos.
- e) esses países estão na retaguarda do desenvolvimento agrícola e social.

QUESTÕES DE MÚLTIPLA ESCOLHA: de 31 a 50. (Utilizar o Cartão-Resposta de tarja VERDE).

- 31 TEXTO: *A number of Brazilian authors have enjoyed successful reputations abroad, but none of them has approached the universal appeal of Jorge Amado who, at 77 and after a half century of writing has seen 22 of his 27 books translated into other languages, and many of them adapted for the movie and TV screens.*

Novels by Jorge Amado have sold millions of copies in close to sixty different countries and he has been the recipient of many distinguished awards from critics and government. In 1951, he received the Stalin Peace Prize in Moscow. Two years ago, in Salvador, there was the inauguration of the Jorge Amado Cultural Foundation.

According to the text, Jorge Amado

- a) is a well-known author only in Brazil.
 - b) is the unique Brazilian author who enjoys a good reputation abroad.
 - c) has reached the universal admiration like no other author.
 - d) enjoys a world reputation like all other Brazilian authors.
 - e) will enjoy a world reputation in a few years.
- 32 TEXTO: *The way you introduce your child to a newborn can make them friends or foes. Studies of families with an older pre-school child and a baby show that their interaction depends on how the parents handle the new birth. When an older child is encouraged to help with the baby, the children enjoy closer bonds. If the mother focuses all her attention on the newborn, the older child feels excluded, which may generate resentment and jealousy.*

The text above states that

- a) a good interaction between the father and the mother makes their children become unfriendly.
- b) when the parents pay special attention to the older child, the newborn feels excluded and jealous.
- c) the children enjoy closer bonds when their parents feel resentment and jealousy.
- d) the mother must focus special attention on the newborn because he needs more affection than the older child.
- e) a good relationship between the newborn and the older child depends on how they share their parents' attention.

- 33 TEXTO: *Biotoxins can be conveniently grouped into three major categories: microbial toxins, produced by bacteria, algae, fungi, etc. ; phytotoxins, produced by higher plants; and zootoxins, produced by animals. The geographical distribution of poisonous organisms varies greatly. Poisonous microorganisms seem to be found everywhere; poisonous plants and animals are found most abundantly in warm temperate and tropical regions.*

O texto acima afirma que

- a) as biotoxinas formam grupos convenientemente dispostos.
- b) microorganismos venenosos parecem ser encontrados em todos os lugares.
- c) animais e plantas são encontrados em maior quantidade em regiões tropicais.
- d) as fitotoxinas são mais numerosas que as zootoxinas.
- e) microorganismos venenosos são mais encontrados nas regiões quentes.

II – FRANCÉS

QUESTÕES DE MÚLTIPLA ESCOLHA: de 31 a 50. (Utilizar o Cartão-Resposta de tarja VERDE).

31. TEXTO: NOUVEAU COUP DE COLERE. DEPUIS LE MOIS DE MARS, NOTRE ETOILE S'ENERVE, S'OFFRE DE FORMIDABLES ERUPTIONS.

Depuis la fin de l'hiver, l'astre qui éclaire la Terre est entré dans une colère lumineuse qui va se poursuivre jusqu'au milieu de l'année 1993, et qui nous causera de sérieux désagréments.

Dans la province du Québec, le 13 mars dernier, 9 millions de personnes ont brutalement été privées de courant. Depuis plusieurs jours, on avait noté une série d'étranges phénomènes: des satellites en orbite s'étaient curieusement mis à descendre de leur perchoir; d'autres avaient momentanément cessé de fonctionner; le 6 mars, dans le monde entier, toutes les communications radio en ondes courtes avaient été interrompues durant plusieurs heures. Un seul coupable: le Soleil. Notre étoile. Celle par qui nous existons. Celle qui est responsable de toute vie sur la planète.

Selon le texte

- a) La terre connaîtra des problèmes sérieux à cause des éruptions solaires, après 1993.
- b) Les habitants du Québec ont été privés d'électricité pendant deux jours.
- c) Des satellites sont tombés en panne en raison du manque de courant.
- d) Quelques satellites ont eu des problèmes techniques en raison des éruptions solaires.
- e) Le soleil a interrompu toutes les communications radio.

32. TEXTO:

Inventé par une petite élite curieuse, le tourisme fut longtemps une discrète et inoffensive promenade. Aujourd'hui pratique de masse, charriant en tous sens d'énormes foules migratrices, le voici transformé en inquiétant paradoxe: il détruit les sites qui le font vivre! La mode écologique n'y fait rien; les dégâts empirent chaque année: vandalisme ordinaire, mais à grande échelle.

"Souvent inconscient, ce vandalisme apparaît comme le produit de nos sociétés urbaines. Les touristes, essentiellement des citadins ayant de moins en moins contact avec la nature, se comportent de la même manière que dans les grandes villes, où ils ont pris l'habitude de tout jeter par terre", précise Jean-François Seguin du secrétariat d'Etat à l'Environnement.

La destruction des sites se doit

- a) A la pratique du tourisme par une petite élite.
- b) Au désir de détruire la nature.
- c) A la diminution du nombre de touristes ces dernières années.
- d) A l'invention du tourisme par une élite curieuse.
- e) Aux habitudes des citadins sans contact avec la nature.

33. TEXTO:

Carnaval de Rio: "Le plus grand spectacle populaire du monde". Les Brésiliens le disent, et ils ont raison. Quatre jours de gloire!

Quoi qu'on pense des autres carnivals du pays – celui de Bahia en particulier, plus "nature", plus frais –, le carnaval de Rio demeure incomparable. Le plus brûlant, le plus surprenant, le plus délirant, le plus grandiose. Il écluse tous les superlatifs propres à la ville merveilleuse et puis s'éteint le mercredi des Cendres, laissant les cendres remonter à la bouche des habitants les plus fous de la planète.

Selon le texte

- a) Seul le carnaval de Bahia peut être comparable à celui de Rio.
- b) Uniquement les Brésiliens considèrent le Carnaval de Rio le plus grand spectacle populaire du monde.
- c) Rien ne change dans la vie des Brésiliens le mercredi des Cendres.
- d) La grandiosité du carnaval reflète le permanent état de bonheur des Brésiliens.
- e) Aucun autre spectacle ne peut être comparable à la grandiosité du carnaval de Rio.

LEATU.

Les Français sont les recordmen mondiaux de l'absorption de tranquillisants. Phénomène inquiétant pour la santé de la population et pour la gestion de l'assurance-maladie.

Le Pr. Edouard Zarifian, psychiatre hospitalier, est l'un des premiers spécialistes français qui aient eu le courage de dénoncer publiquement l'abus de ces produits et les dangers de leurs effets secondaires. Sujet tabou, à en juger par la condamnation de la revue "Sciences et Vie" à 100.000 francs d'amende pour avoir évoqué le chiffre de 150 millions de boîtes de tranquillisants vendues, en France, en une année.

De acordo com o texto, o Professor Edouard Zarifian

- a) foi condenado a pagar uma multa de 100.000 francos, por ter permitido o uso excessivo de tranqüilizantes.
- b) obrigou a revista "Sciences et Vie" a pagar uma multa de 100.000 francos, por ter publicado um artigo sobre a venda excessiva de tranqüilizantes.
- c) foi um dos primeiros especialistas franceses a denunciar o uso excessivo de tranqüilizantes.
- d) foi um dos primeiros especialistas franceses a criticar a revista "Sciences et Vie", pela divulgação do uso excessivo de tranqüilizantes.
- e) foi denunciado pela revista "Sciences et Vie" por ter receitado um número excessivo de tranqüilizantes.

A opção que melhor traduz o sentido da frase "*Pour une durée d'un an, aucun loyer du secteur privé en région parisienne ne pourra augmenter de plus de 2,3%*", é

- a) Durante um ano, nenhum aluguel do setor privado, na região parisiense, poderá ser aumentado em mais de 2,3%.
- b) Durante mais de um ano, apenas os aluguéis do setor privado, na região parisiense, poderão ser aumentados em 2,3%.
- c) Em um ano, os aluguéis do setor privado, na região parisiense, foram aumentados em mais de 2,3%.
- d) Durante um ano, nenhum aluguel do setor privado, na região parisiense, foi aumentado em menos de 2,3%.
- e) Este ano, os aluguéis do setor privado, na região parisiense, serão aumentados em apenas 2,3%.

Depuis le 31 mai, 14.000 bébés parisiens sont dans la rue. Leurs parents mobilisent toutes les bonnes volontés pour les faire garder. Raison de cette panique: la grève des auxiliaires de puériculture des crèches de Paris qui protestent contre leurs conditions de travail et des salaires de misère.

De acordo com o texto, a alternativa que encerra o mesmo sentido da frase "*Depuis le 31 mai, 14.000 bébés parisiens sont dans la rue*", é

- a) Depuis le 31 mai, des bébés vivent dans la rue, à Paris.
- b) Depuis le 31 mai, des bébés ont été abandonnés dans les rues de Paris.
- c) Depuis le 31 mai, les crèches de Paris ne reçoivent pas de bébés.
- d) Depuis le 31 mai, les parents abandonnent leurs bébés dans les rues de Paris.
- e) Depuis le 31 mai, des bébés parisiens sont reçus dans des crèches.

Na frase "*... des auxiliaires de puériculture des crèches de Paris qui protestent contre leurs conditions de travail et des salaires de misère*", a palavra sublinhada é antônimo de:

- a) s'opposent b) manifestent c) acceptent d) luttent e) s'indignent

ões de n^{os} 38 a 50. As lacunas devem ser preenchidas pelas formas gramaticais adequadas:

Les astronomes _____ monde entier étudient les éruptions solaires.

- a) en b) de c) par d) du e) dans

39. Quelle est la différence entre _____ bon et _____ mauvais touriste?
 a) le, un b) le, le c) le, la d) un, la e) un, le
40. Les Français consomment trop de tranquillisants. _____ phénomène inquiète le gouvernement.
 a) ce b) cet c) cette d) celle e) cela
41. Parmi les écoles de samba de Rio, Mangueira est _____ qui passionne le plus le public.
 a) ce b) celles c) celui d) ceci e) celle
42. Ne prenez pas de tranquillisants. Ils sont mauvais pour _____ santé.
 a) votre b) ton c) notre d) sa e) ta
43. Les touristes veulent connaître le Carnaval "carioca" parce qu'on _____ parle beaucoup.
 a) y b) le c) la d) en e) lui
44. Les radiations solaires provoquent des cancers. Evitez-_____
 a) en b) les c) le d) y e) la
45. Les médicaments _____ nous prenons sont parfois dangereux.
 a) dont b) que c) qui d) quoi e) où
46. Les écoles de samba sont des associations _____ la discrimination raciale n'existe pas.
 a) où b) que c) qui d) dont e) quoi
47. Dans les années 90, des agences spatiales _____ de près le soleil.
 a) observera b) ont observé c) observeront d) observent e) observaient
48. Certains touristes achètent tout ce qu'ils _____
 a) avaient vu b) voyaient c) verront d) voient e) ont vu
49. Dans les années 60, l'usage de tranquillisants _____ moins fréquent.
 a) est b) sera c) était d) étais e) serai
50. *Le 22 novembre 1977, Concorde assurait son premier vol commercial à destination de New York. Depuis, sur la destination Paris-New York, les avions Concorde d'Air France _____ 440.000 passagers en 7.232 vols, ce qui _____ actuellement 27.530 heures de vol à deux fois la vitesse du son.*
 a) a transporté/représente d) transportent/représentent
 b) transporte/représentait e) ont transporté/représente
 c) ont transporté/va représenter