

COPERVE

COMISSÃO PERMANENTE DO CONCURSO
VESTIBULAR

CONCURSO VESTIBULAR
UNIFICADO

84

ESTUDOS SOCIAIS

--	--	--	--	--	--	--

INSCRIÇÃO

ASSINATURA DO CANDIDATO

UNIVERSIDADE FEDERAL DA PARAÍBA
UNIVERSIDADE REGIONAL DO NORDESTE
INSTITUTOS PARAIBANOS DE EDUCAÇÃO

ATENÇÃO!

– Cada questão contém 5 (cinco) alternativas para resposta, onde apenas uma é correta.

HISTÓRIA GERAL E DO BRASIL

01



FONTE: CASSON, Lionel, *O Antigo Egito*. Rio, José Olympio, 1969, p. 118-119.

– O quadro geográfico do antigo Egito tem semelhança com o do vale do São Francisco, no Nordeste brasileiro. Assim, a atividade econômica acima ilustrada

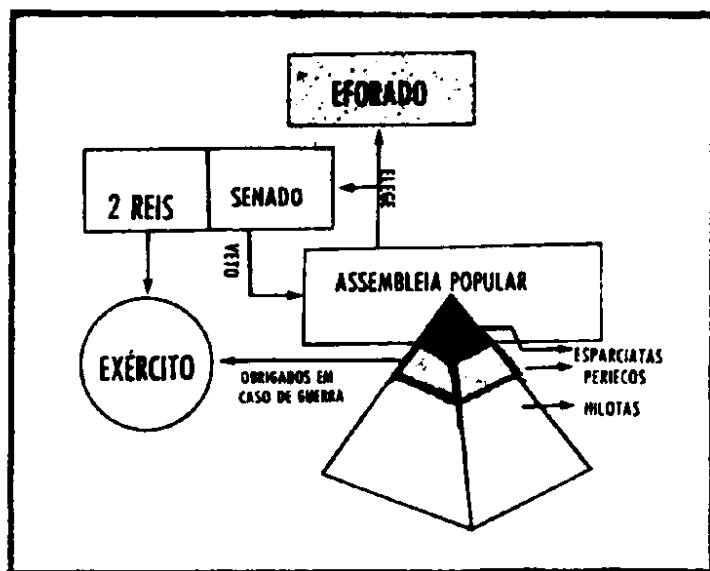
- A) existia no Egito e ocorre, parcialmente, no vale do São Francisco, a partir do emprego de técnicas eficientes de adubação e irrigação.
- B) subsistia no delta do Nilo, mas no vale do São Francisco o quadro geo-físico impossibilita o seu desenvolvimento.
- C) ocorria no país dos faraós, e pratica-se no Nordeste, graças às cheias periódicas dos rios Nilo e São Francisco, respectivamente.
- D) inexistia no Egito mas não é desenvolvida no Nordeste, em decorrência das raras chuvas e sistemáticas secas.
- E) sucedia além das fronteiras egípcias, sendo, porém, viável no Nordeste brasileiro, beneficiada pelo clima tropical-úmido.

02 Reconhece-se, como legado cultural das Civilizações do Oriente Próximo ao mundo ocidental, a

- A) valorização da matemática, resultante da religiosidade dos hebreus.
- B) criação do calendário lunar, pelos assírios.
- C) adoção do princípio religioso monoteísta, pelos persas.
- D) substituição da medicina, pela adivinhação astrológica da Babilônia.
- E) invenção do alfabeto consonantal, pelos fenícios.

03 A estrutura político-social, representada ao lado, corresponde à de (da)

- A) todas as cidades gregas.
- B) cidade de Atenas.
- C) cidade de Esparta.
- D) cidade de Roma.
- E) todas as cidades romanas.



FONTE: MARQUES, A. M. e FARIA, R. de Moura. *Nova História*, 3. ed. São Paulo, Lê, 1979, p. 30.

04 A agricultura medieval se caracterizava pela baixa produtividade e pela técnica rudimentar, embora o cultivo se fizesse de modo racional. Prova disso é que (vide quadro ao lado)

AGRICULTURA NA IDADE MÉDIA

Campo	1.º ano	2.º ano	3.º ano
Campo I	trigo	cevada	repouso
Campo II	cevada	repouso	trigo
Campo III	repouso	trigo	cevada

– Fonte: ARRUDA, José Jobson de A. *História Antiga e Medieval*. São Paulo, Ática, 1976, p. 362.

- A) dividiam-se as terras aráveis em campos, sendo cada um deles reservado ao cultivo de um mesmo cereal.
- B) desprezava-se a atividade pecuarista associada ao cultivo, para que os animais não destruíssem as plantações.
- C) esgotava-se a terra com a lavoura de determinado produto e, só então, passava-se a cultivar outro campo.
- D) fazia-se o descanso de um dos campos, a cada ano, em vez do esgotamento sistemático de todos eles.
- E) planejava-se, para cada campo, o cultivo de um único cereal, sem haver uma diversificação da lavoura.

- 05 Uma das pregações do fundador dos Franciscanos sintetiza, ainda hoje, a mensagem espiritual da Igreja, que a divulga em forma de verdadeira “oração-poema”. Seu teor inicia-se por
- A) enaltecer: *“O Senhor é meu pastor, nada me faltará. Deitar-me faz em verdes pastos, guia-me mansamente a águas tranqüilas [...] Ainda que eu andasse pelo vale da sombra da morte não temeria mal algum, porque Tu estás comigo...”*
 - B) exaltar: *“Bem-aventurados vós, pobres, porque vosso é o Reino de Deus. Bem-aventurados os que agora tendes fome, porque sereis fartos. Bem-aventurados os que agora chorais, porque haveis de rir...”*
 - C) implorar: *“Senhor, fazei-me um instrumento de vossa paz. Onde houver ódio, que eu leve o amor; onde houver ofensa, que eu leve o perdão; onde houver discórdia, que eu leve a união; onde houver dúvida, que eu leve a fé...”*
 - D) exultar: *“A minha alma engrandece ao Senhor. E o meu espírito se alegrou em Deus, meu Salvador, porque olhou a baixeza de sua serva, e por isso, de hoje em diante, as gerações todas me chamarão bem-aventurada...”*
 - E) glorificar: *“Pai, santificado seja o Teu nome; venha a nós o Teu Reino; o pão nosso de cada dia nos dá hoje; e perdoa-nos os nossos pecados, pois que também nós perdoamos a todo o que nos deve...”*

06 Dentre as diversas crenças Católicas, contestadas pela Reforma, aponta-se a

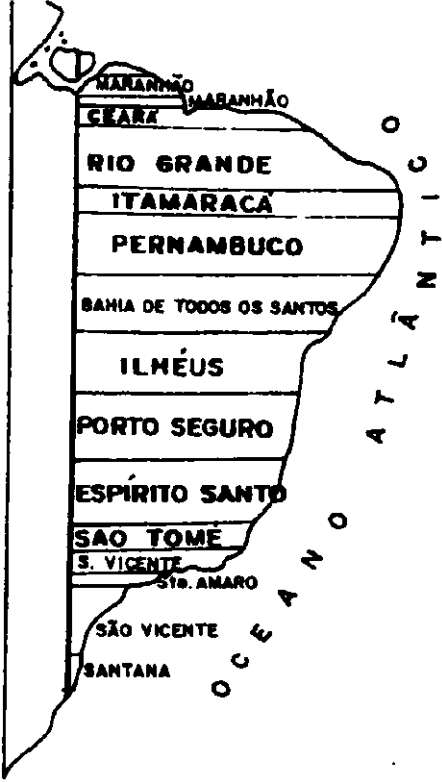
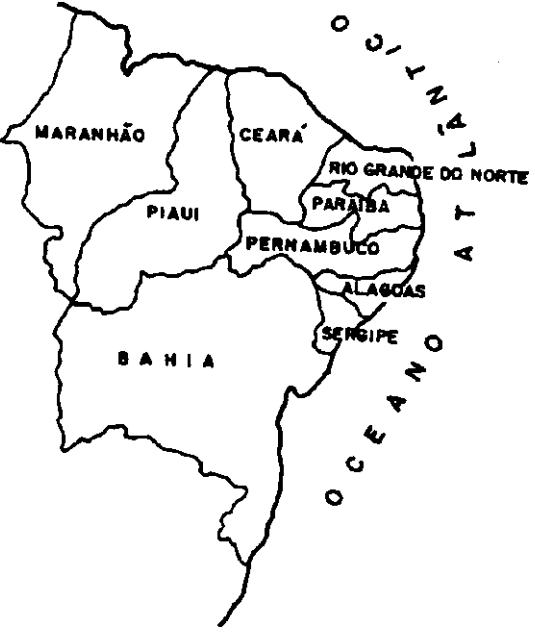
- A) concepção de que Cristo era o Filho de Deus.
- B) confirmação do batismo como Sacramento.
- C) veneração à Virgem Maria e o culto aos Santos.
- D) livre interpretação das Sagradas Escrituras.
- E) convicção da imortalidade da alma.

07

*“Caminho das Índias, caminho do mar...
O vento e a vela, cravo e canela;
O ouro do rei na mesma panela...”*

– Nos versos acima, de Moraes Moreira, Maria Betânia canta a

- A) epopéia de Colombo, quando da descoberta da América.
- B) expansão asiática para o continente europeu.
- C) ação mercantilista ibérica, posta em prática na Ásia.
- D) ruína da armada real britânica, expulsa da Índia.
- E) desvalorização das especiarias orientais, provocada pelo ouro.

CAPITANIAS HEREDITÁRIAS DOADAS ENTRE 1534 - 1536	ESTADOS NORDESTINOS ATUAIS
	
<p>Fonte: FERREIRA, O. Leonel. História do Brasil, 4. ed. São Paulo, Ática, 1981, p. 37.</p>	<p>Fonte: ABREU E CASTRO, J. Estudos Sociais Nordeste. São Paulo, IBEP, s/d, p. 9.</p>

Através da análise dos mapas acima, conclui-se que a Capitania Real da Parahyba, criada em 1574, localizava-se na (s)

- A) terras da antiga Capitania de Itamaracá.
- B) dependências territoriais da Capitania de Pernambuco.
- C) configuração do espaço estadual do Rio Grande do Norte.
- D) fronteiras dos limites meridionais do Estado de Pernambuco.
- E) divisas dos espaços estaduais do Rio Grande do Norte e Itamaracá.

09 Acerca da Guerra de Secessão (Estados Unidos, 1861-1865), pode-se afirmar que:

- I – O Sul dependia da monocultura e da escravidão.
- II – O Norte era solidário ao trabalho livre.
- III – Os Estados Sulistas saíram vitoriosos.
- IV – A abolição da escravatura foi rejeitada pela burguesia Nortista.

– Está (ão) correta (s) somente a (s) afirmativa (s)

- A) I
- B) III
- C) IV
- D) I e II
- E) III e IV

DADOS COMPARATIVOS ENTRE A EXPORTAÇÃO DO BRASIL PARA PORTUGAL E A DE PORTUGAL PARA O ESTRANGEIRO

ANOS	EXPORTAÇÃO DO BRASIL (Cruzados)	EXPORTAÇÃO DE PORTUGAL (Cruzados)
1796	28.687.000	40.033.000
1800	31.320.000	51.712.000
1805	34.871.000	56.635.000
1807	34.819.000	52.498.000
1810	9.208.000	31.304.000
1815	22.648.000	48.961.000
1819	18.792.000	28.228.000

FONTE: SIMONSEN, Roberto C. *História Econômica do Brasil. (1500/1820)*, 7.ed. São Paulo, Nacional/MEC, 1977. p. 389.

– Com base na tabela acima, observa-se que

- A) as exportações do Brasil para o estrangeiro oscilavam menos do que as exportações lusitanas para outros países.
- B) o maior índice de exportação de Portugal para o exterior ocorreu na segunda década do século XIX.
- C) o menor índice de exportação de Portugal para o exterior registrou-se no final do século XVIII.
- D) as exportações lusas para o estrangeiro superavam as do Brasil para a Metrópole.
- E) as exportações do Brasil tiveram um crescimento sistemático.

11 Pressuponha que, a partir de 1882, um senhor de engenho escravocrata tenha-se decidido a aplicar, adequadamente, a legislação abolicionista que estivesse em vigor, para favorecer o seu escravo Martins, *mulato, de 62 anos, natural e residente na Parahyba*. Em decorrência, Martins obteria sua liberdade

- A) imediatamente, já que desde 1871 vigorava a Lei do Ventre Livre.
- B) um ano depois, em 1883, porque nesse ano o Ceará, pioneiramente, aboliu a escravidão.
- C) dois anos depois, em 1884, porque, a partir daí, teve início a campanha abolicionista.
- D) três anos depois, em 1885, quando completaria a idade mínima para gozar os benefícios da Lei Saraiva-Cotegipe.
- E) seis anos depois, em 1888, quando foi sancionada a Lei Áurea, assinada pela Princesa Isabel.

12

"A resistência apresentada por João Pessoa à política do Catete, negando apoio ao candidato de Washington Luís, despertou o interesse sobre o nome do presidente paraibano para compor a chapa de Getúlio Vargas..."

FONTE: RODRIGUES, Inês Caminha Lopes. **A Revolta de Princesa**. João Pessoa, SEC, 1978, p. 71.

– Pelo exposto, pode-se deduzir que a Paraíba

- A) passou a exercer o papel de defensora dos interesses políticos regionais, em comum acordo com a esfera federal.
- B) rompeu, em definitivo, com os líderes da coligação de Estados conhecida como Aliança Liberal.
- C) firmou posição de neutralidade na sucessão presidencial do país, não se comprometendo com nenhum candidato.
- D) repudiou as manobras políticas do partido da situação que governava o país, juntamente com o Rio Grande do Sul e Minas Gerais.
- E) apoiou a tradicional política de alternância dos presidentes saídos de Minas Gerais e São Paulo, conhecida como "café com leite".

13

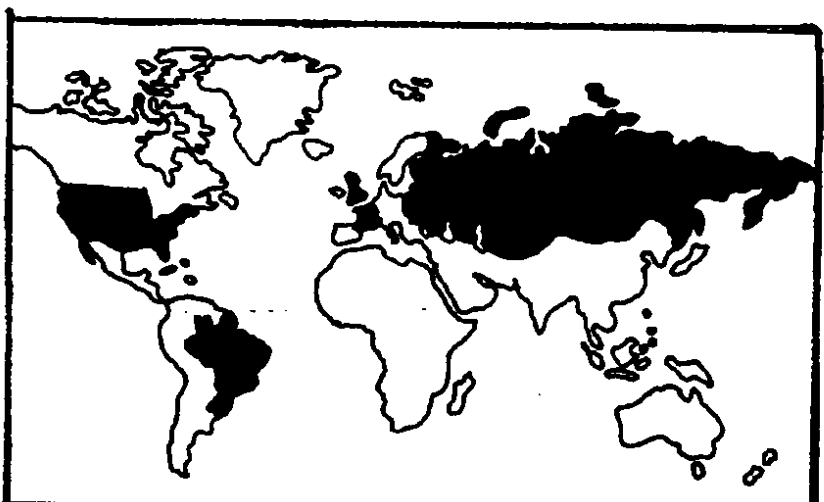
Em **Parahyba Mulher Macho**, da cineasta Tizuka Yamazaki, o assassinato de João Pessoa foi mostrado como crime passional, cujo pivô foi Anayde Beiriz. Todavia, o próprio filme não omitiu a versão histórica sobre as implicações políticas, uma vez que

- A) João Dantas, perrepista, foi adversário de João Pessoa.
- B) Anayde Beiriz era a líder feminista do Partido Comunista, liderado por Luís Carlos Prestes.
- C) José Pereira, da Aliança Liberal, permaneceu fiel a João Pessoa até seus últimos dias.
- D) José Américo de Almeida, fundador do Partido Democrático, combatia as metas governamentais de João Pessoa.
- E) João Pessoa, governador da Paraíba, foi o líder ideológico da Revolta de Princesa.

14

Os países em destaque, no mapa ao lado, representam os principais

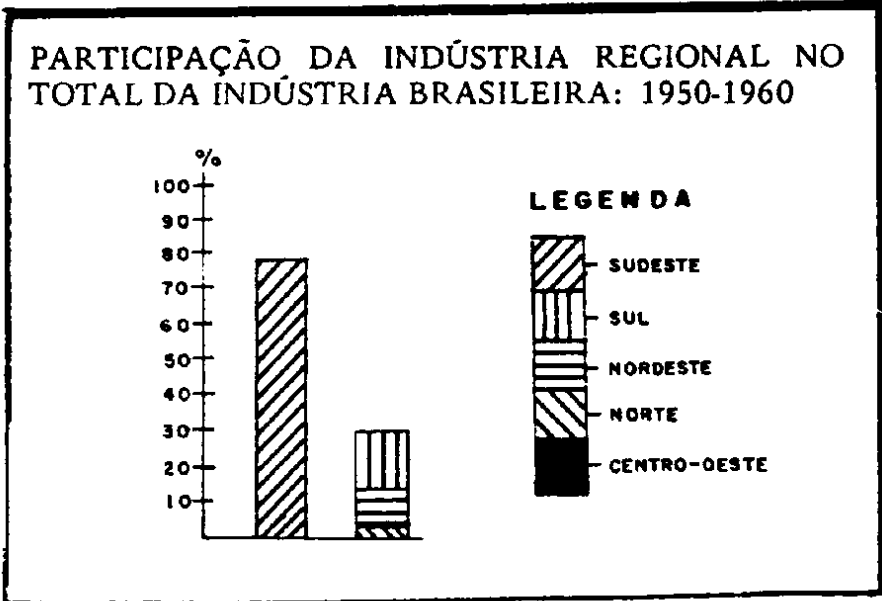
- A) perdedores da I Guerra Mundial.
- B) adeptos do Totalitarismo, no período de entre guerras.
- C) expoentes da Democracia Liberal, no período de entre guerras.
- D) perdedores da II Guerra Mundial.
- E) vencedores da II Guerra Mundial.



FONTE: Adaptado de MARQUES, A. Martins e FÁRIA, R. de Moura. **Nova História**, 3. ed. São Paulo, LÉ, 1979, p. 210.

15 Analisando o gráfico ao lado, podemos associá-lo às seguintes conclusões relativas à industrialização brasileira, COM EXCEÇÃO DA

- A) primazia da região Centro-Oeste, apesar da concorrência do Norte.
- B) supremacia do Sul sobre o Nordeste.
- C) posição do Sul como vice-líder do parque nacional.
- D) liderança contínua do Sudeste.
- E) inferioridade do Norte e Nordeste, comparados ao Sudeste.



FONTE: Gráfico elaborado a partir de dados parciais contidos In: OLIVEIRA, Francisco de. *A Economia da Dependência Imperfeita*, 2. ed. Rio, Graal, 1977, p. 46.

16

“O saldo fora brutal — de um conflito entre milicianos, proprietários e o capataz da Usina São João, de um lado, e camponeses de outro [...] em Mari, resultaram oito mortos e quatro feridos. Foi esse, sem qualquer sombra de dúvida, o mais sério acontecimento da Paraíba antes do Movimento de 1964.”

FONTE: ARRUDA MELLO, José Octávio. “Tensão Social e Lutas Populares na Paraíba — 1962-64” In: **Cadernos de Estudos Regionais do NDIHR**. João Pessoa, Universitária, 1981 (n.º 4) p. 81-82.

— De acordo com o texto, pode-se concluir que a Paraíba, às vésperas do movimento de 1964, enfrentava sérios conflitos no campo resultantes de interesses antagônicos das classes sociais, envolvendo os

- A) representantes da estrutura fundiária e o poder militar.
- B) donos de terras e a mão-de-obra camponesa.
- C) trabalhadores do engenho São João e os setores urbanos de Mari.
- D) proprietários de terras e os capatazes subalternos.
- E) milicianos atuantes nas ligas camponesas e os latifundiários.

17 Aplicando a interpretação materialista da História ao antagonismo dos modos de vida, referidos no trecho do poema de Vinicius de Moraes, exemplifica-se a "luta do classes", no Brasil, entre um

- A) pedreiro e um mestre pedreiro.
- B) soldado e um policial.
- C) camponês e um comerciante.
- D) estudante e um professor.
- E) operário e um industrial.

"Notou que sua marmita
Era o prato do patrão
Que sua cerveja preta
Era o uísque do patrão
Que o macacão de zarte
Era o terno do patrão
Que o casebre onde morava
Era a mansão do patrão
Que seus dois pés andarilhos
Eram as rodas do patrão
Que a dureza do seu dia
Era a noite do patrão
Que sua imensa fadiga
Era amiga do patrão."

18

*"Em cada minuto morre uma criança de doença ou de fome [...]. Entre os 280 milhões de latino-americanos há, atualmente, cinquenta milhões de desempregados ou subempregados e cerca de cem milhões de analfabetos; a metade dos latino-americanos vive apinhada em moradias insalubres [...]. A América Latina produz, hoje em dia, em relação a sua população menos alimentos do que antes da última guerra mundial, e suas exportações per capita diminuíram [...]. Até a industrialização dependente e tardia, que comodamente coexiste com o latifúndio e as estruturas da desigualdade, contribui para se-
meiar o desemprego [...]."*

FONTE: GALEANO, Eduardo. *As Veias Abertas da América Latina*, 16. ed. São Paulo, Paz e Terra, 1983, p. 15-16.

— Os graves problemas sócio-econômicos de que trata o texto têm como principal determinante a (o)

- A) persistência do pacto colonial, que condiciona a balança comercial favorável às respectivas metrópoles colonizadoras.
- B) comprometimento das classes dominantes latino-americanas, com o imperialismo de natureza capitalista.
- C) competição econômica entre os próprios países latino-americanos que, apesar do aumento de seus sistemas produtivos, não absorvem toda a mão-de-obra disponível.
- D) instabilidade política dos países do terceiro mundo da América, caracterizada pelos sucessivos golpes de Estado e caudilhismo.
- E) aumento desenfreado da taxa de natalidade e diminuição da taxa de mortalidade entre as classes de baixa renda da América Latina.

19

Com a morte de Alceu de Amoroso Lima, a cultura nacional perdeu um

- A) defensor do controle militar no cenário político.
- B) contestador do comprometimento social da Igreja.
- C) adepto das idéias de terrorismo cultural.
- D) renovador do movimento integralista.
- E) opositor ao arbítrio e autoritarismo político.

20.

"No Nordeste, a causa imediata das mortes pode ser uma doença. Mas a causa real é a fome."

— GONZAGA MOTA, Governador do Ceará, In: Revista *Isto É*, 07 set. de 1983 (n.º 350) p. 86.

— Entre outras causas, pode-se explicar a problemática nordestina, a partir desse depoimento, como resultante da

I — seca que assola a região.

II — crescente abertura de "frentes de serviço."

III — contínua migração Nordeste-Sudeste.

IV — questão agrária, fonte da marginalização do homem do campo.

— Estão corretas somente as afirmativas,

A) I e III

B) I e II

C) III e IV

D) II e III

E) I e IV

21

"Mas não é suficiente afastar a tutela do FMI. Se não tomarmos a iniciativa de definir soberanamente nossa política, os credores externos ocuparão sem tardança o espaço vazio."

FONTE: FURTADO, Celso. *Não à Recessão e ao Desemprego*. Rio de Janeiro, Paz e Terra, 1983, p. 17.

— Críticas, desse teor, ao acordo Governo Brasileiro e Fundo Monetário Internacional têm por objetivo

A) estimular as relações financeiras entre Brasil e Estados Unidos.

B) garantir o intercâmbio econômico nacional com os países socialistas.

C) preservar as garantias de respeito à autonomia nacional.

D) incentivar uma política econômica voltada ao comércio externo.

E) libertar o país das imposições monetárias estabelecidas pela OPEP.

22

Entre as manchetes de jornais, do segundo semestre de 1983, transcritas abaixo, a única que se associou ao recrudescimento da "guerra fria" foi

A) **"ONU quer solução para as Malvinas. Argentina protesta contra construção de base nas ilhas."** [A União, 22 jul. 1983.]

B) **"Mundo reage ao ataque soviético. Europeus condenam bombardeio ao avião coreano."** [A União, 03 set. 1983.]

C) **"Extremistas investem, no Chile, contra o Exército."** [O Norte, 17 set. 1983.]

D) **"Guardas que deixaram ativistas fugirem são detidos em Belfast."** [O Norte, 30 set. 1983.]

E) **"Montley pede à Nicarágua que cumpra acordo feito com Grupo de Contadora"**. [Jornal do Brasil, 14 out. 1983.]

- 23 Sobre o federalismo brasileiro, é correto afirmar que, segundo a Constituição Federal, os Estados-membros têm
- A) liberdade de manter relações internacionais.
 - B) poderes para resolver problemas específicos relativos ao bem-estar dos municípios.
 - C) sua própria constituição e capacidade de auto-organização e auto-governo.
 - D) competência para cuidar da defesa do território nacional.
 - E) autonomia para estabelecer e executar planos regionais de desenvolvimento.
- 24 A soberania do País constitui um dos objetivos nacionais, cujo estabelecimento, de acordo com o art. 89 da Constituição Federal, é da competência do
- A) Congresso Nacional.
 - B) Conselho de Segurança Nacional.
 - C) Ministério da Justiça.
 - D) Supremo Tribunal Federal.
 - E) Estado-Maior das Forças Armadas.
- 25 O desenvolvimento educacional do Brasil depende, também, da política econômica do governo. Desse modo, os recursos financeiros destinados à educação têm
- A) possibilitado a distribuição de verbas, de acordo com as exigências de cada região.
 - B) ajustado a formação universitária às reais necessidades do País.
 - C) proporcionado o desenvolvimento do ensino profissionalizante.
 - D) eliminado a diferença dos índices de evasão escolar entre o Nordeste e o Sudeste brasileiros.
 - E) dificultado o atendimento às necessidades educacionais da sociedade brasileira.
- 26 No Nordeste brasileiro, geralmente, o latifundiário possui grande prestígio e exerce a chefia política no âmbito municipal. Seu poder político decorre da existência, ainda, "do voto de cabresto". Essa realidade
- A) reflete a harmonia entre o capital e o trabalho.
 - B) mostra a evolução cultural da zona rural.
 - C) traduz a reprodução de padrões democráticos.
 - D) demonstra a existência de resquícios do coronelismo.
 - E) comprova o exercício consciente da cidadania.
- 27 Para reduzir a gravidade dos problemas surgidos com a seca do Nordeste, o Governo Federal criou o programa das "frentes de trabalho". Essa medida
- A) soluciona todos os problemas causados pela estiagem.
 - B) retrata uma eficiente e eficaz política econômica regional.
 - C) extingue o êxodo rural e, conseqüentemente, a proliferação das favelas.
 - D) atenua, precariamente, a fome do homem do campo.
 - E) contribui decisivamente para o crescimento econômico da região.

28 O Planalto ouve, acerca da crise brasileira, diversos seguimentos da sociedade. O FMI pressiona o País, enquanto cresce o protesto da opinião pública contra a política econômica adotada pelo Governo Federal.

O texto acima reflete, sobretudo,

- I — a sensibilidade do governo a todas as reivindicações dos trabalhadores.
- II — a possibilidade imediata de reativação do parque industrial brasileiro.
- III — a dificuldade de ajustamento da economia brasileira às exigências do sistema financeiro internacional.
- IV — o endividamento externo do Brasil e sua dependência econômica.

São verdadeiras somente as proposições

- A) I e III B) II e IV C) III e IV D) I e II E) II e III

29 A decisão do Congresso Nacional, ao rejeitar os Decretos-leis de nºs 2.024, 2.036 e 2.045, evidencia, como uma das características comuns aos Três Poderes da União, a (o)

- A) iniciativa de leis que disponham sobre matéria financeira.
- B) exercício de poder, delegado pelos Ministros de Estado.
- C) centralização político-administrativa.
- D) poder de veto a projetos de leis.
- E) independência no exercício de suas funções específicas.

30 O assassinato da líder sindical, Margarida Maria Alves, em agosto de 1983, na cidade de Alagoa Grande - PB, foi atribuído a sua luta em defesa dos direitos trabalhistas dos camponeses. Entretanto, esses direitos são assegurados pela Constituição Federal, destacando-se entre eles, o (a)

- A) salário mínimo capaz de satisfazer às necessidades normais do trabalhador e de sua família.
- B) salário de trabalho diurno igual ao noturno.
- C) permissão de qualquer trabalho a menores de doze anos.
- D) descanso remunerado da gestante, somente após o parto.
- E) permissão de salários diferenciados, segundo o estado civil do trabalhador.

31 O Município, unidade territorial do Estado, tem autonomia definida e assegurada pelas Constituições da República Federativa do Brasil e do Estado, e pela Lei Orgânica dos Municípios. Essa autonomia compreende o (s) setor (es)

- A) administrativo.
- B) financeiro, político e administrativo.
- C) político e financeiro.
- D) administrativo e financeiro.
- E) político.

32 O órgão, vinculado ao Ministério do Interior e um dos responsáveis pela expansão dos distritos industriais do Nordeste, é a (o)

- A) EMATER B) SUDENE C) INCRA D) POLONORDESTE E) SENAI

33 A crise que atinge, inclusive, os setores produtivos, tem provocado, entre outras conseqüências, o desemprego, a fome e os saques. Para superá-la, os críticos da política econômica do governo propõem, além de outras medidas,

- A) retomar o crescimento, através da reativação da indústria.
- B) estimular o programa do Proálcool como único meio de aumentar a renda "per capita".
- C) evitar a decretação da moratória, com vistas a assegurar a soberania nacional.
- D) desenvolver a exportação de produtos agrícolas, ainda que seja sacrificada a agricultura de subsistência.
- E) acatar as condições impostas pelos credores externos, a fim de equilibrar o mercado interno.

GEOGRAFIA GERAL E DO BRASIL

34 O Nordeste brasileiro atravessa em nossos dias a mais dramática crise de sua história, provocada, fundamentalmente, pelo (a, as)

- A) incapacidade dos solos nordestinos, rasos e pedregosos, de absorverem a reduzida precipitação pluviométrica regional.
- B) condições sócio-econômicas implantadas desde os seus tempos coloniais, e que a tornam vulnerável aos efeitos da seca prolongada.
- C) deficiente capacitação profissional da maior parte da população rural, impossibilitada de exercer atividades terciárias nas metrópoles regionais.
- D) deficiente aproveitamento dos açudes regionais subutilizados, em termos de irrigação.
- E) impossibilidade de desenvolver-se uma política voltada para o melhor aproveitamento da terra, tendo em vista as adversas condições climáticas.

35 A população nordestina correspondia, em 1872, a 46% da população brasileira. Em 1980, esta percentagem passou a 29,27%. Assim sendo, verifica-se, através dos censos, que o Nordeste "perde" população em relação às outras regiões brasileiras. Explica-se tal fato em função

- A) do elevado índice de natalidade das demais regiões.
- B) da evasão demográfica que se verifica em direção aos grandes centros urbanos regionais.
- C) do baixo índice de crescimento vegetativo da população nordestina.
- D) da gradativa decadência econômica do Nordeste no contexto nacional.
- E) de o Nordeste não ter atraído o imigrante estrangeiro.

36 Segundo os meteorologistas, as recentes chuvas que se abateram sobre a região Sul do Brasil decorreram de uma conjunção de fatores, dentre os quais avulta o aquecimento periódico de uma larga extensão do oceano Pacífico, nas vizinhanças do equador. Este fenômeno é conhecido como

- A) FPA (Frente Polar Atlântica).
- B) El Niño.
- C) FIT (Frente Intertropical).
- D) Doldrum.
- E) Friagem.

37 São Luís, Terezina, Floriano, Parnaíba e Caxias são centros urbanos de destaque do (a)

- A) Meio-norte. B) Zona-da-Mata. C) Agreste. D) Brejo. E) Curimataú.

38 As sub-regiões nordestinas que concentram a maior parte da população e a maior produção agrícola regional são:

- A) Sertão e Agreste. B) Agreste e Brejo. C) Brejo e Meio-Norte.
D) Zona-da-Mata e Agreste. E) Sertão e Zona-da-Mata.

39 A área de atuação da SUDENE compreende o (s)

- A) Polígono das Secas.
B) Nordeste e o leste do Pará.
C) estados do Nordeste.
D) Nordeste, salvo o oeste do Maranhão.
E) Nordeste e parte norte de Minas Gerais.

40 Leia com atenção o texto abaixo sobre industrialização do Nordeste:

Sabe-se que a atividade industrial se desenvolve quando encontra certas condições que lhe são favoráveis. Entre os fatores condicionantes da industrialização, encontramos: a matéria-prima, o capital, a mão-de-obra, a energia, o mercado consumidor, o sistema de transporte etc. Assim sendo, verifica-se que o Nordeste oferece facilidades quanto a alguns fatores, embora tenha pontos de estrangulamento.

O texto evidencia que (,)

- A) no Nordeste, não ocorre indústria de base.
B) para que se desenvolva a atividade industrial numa região, é necessário que ela seja bem dotada em relação a todos os fatores condicionantes desta atividade.
C) na implantação da atividade industrial no Nordeste, deve-se levar em conta as particularidades regionais em relação aos fatores da industrialização.
D) os fatores matéria-prima, mão-de-obra e energia são favoráveis à industrialização do Nordeste, enquanto os demais constituem pontos de estrangulamento.
E) o desenvolvimento da atividade industrial é a única saída para a crise econômica que afeta o Nordeste.

41 Disponibilidade de capital, concentração demográfica, aproveitamento energético dos cursos d'água e mão-de-obra qualificada representada pelo imigrante são os principais fatores responsáveis, no Brasil, pelo (a,os)

- A) desenvolvimento agropastoril da região Sul.
B) desequilíbrios econômicos verificados nas sub-regiões do Nordeste.
C) concentração industrial no Sudeste.
D) recente aumento demográfico verificado no Centro-Oeste.
E) concentração da produção de gêneros alimentícios na região Nordeste.

- 42 Tendo em vista a recente subdivisão do antigo estado do Mato Grosso em duas unidades da Federação, é válido afirmar que o Mato Grosso do Sul
- A) encontra-se na área de atuação da SUDAM.
 - B) apresenta aspectos físicos semelhantes à Amazônia.
 - C) é menos desenvolvido que o atual estado do Mato Grosso.
 - D) tem suas atividades produtivas prejudicadas pela proximidade do Sudeste.
 - E) concentra a maior parcela da população e as cidades mais importantes do antigo estado.
- 43 Em relação aos aspectos físicos, a região Norte é a mais homogênea das regiões brasileiras. Tal homogeneidade é comprovada pelo predomínio de
- A) terras baixas, densa cobertura vegetal, clima úmido e rios caudalosos.
 - B) densa rede hidrográfica, relevo planáltico, clima semi-úmido e cobertura florestal.
 - C) rios caudalosos, planícies, clima tropical e vegetação de cerrado.
 - D) vegetação florestal, rios temporários, terras baixas e clima semi-árido.
 - E) terras baixas, cobertura florestal, clima árido e rios encachoeirados.
- 44 Quanto à distribuição da população brasileira, qual a interpretação que pode ser dada à tabela abaixo?

DISTRIBUIÇÃO DA POPULAÇÃO BRASILEIRA

ESTIMATIVAS PARA 1980

REGIÕES	% DO TERRITÓRIO	DENSIDADE DEMOGRÁFICA	% DA POPULAÇÃO TOTAL
Sudeste	10,86	55,76	41,7
Nordeste	18,20	23,40	29,6
Sul	6,79	38,93	18,3
Centro-oeste	22,08	4,14	6,4
Norte	42,07	1,37	4,0
TOTAL	100,00	14,45	100,0

FONTE: ADAS, Melhem. **Panorama geográfico do Brasil**. São Paulo, Moderna, 1983, p. 138.

- A) A região Nordeste é mais densamente povoada do que a região Sul.
- B) As regiões Sudeste e Sul ocupam 17,65% da superfície do país e concentram 60% da população brasileira.
- C) A superfície das regiões Sudeste, Nordeste e Sul, somadas, correspondem a 65% do território brasileiro.
- D) A região Centro-Oeste é a menos povoada.
- E) O quadro demonstra que a população brasileira é bem distribuída pelo seu território.

- 45 No Brasil, para cada tipo de solo fértil, pode associar-se um produto de grande valor comercial. Assim sendo, relacionam-se
- A) terras de várzea / milho.
 - B) massapê / mandioca.
 - C) terra roxa / café.
 - D) salmourão / cultivos irrigados.
 - E) terra poenta / cana-de-açúcar.
- 46 Considerando a monoexportação petrolífera da Venezuela, pode-se afirmar que
- A) é necessário ampliar o número de refinarias.
 - B) o país necessita estimular sua indústria petroquímica.
 - C) o país precisa conquistar novos mercados de consumo.
 - D) tal fato contribui para a instabilidade econômica do país.
 - E) é preciso adotar uma política mais agressiva e nacionalista.
- 47 A população argentina
- A) apesar de pouco numerosa, se encontra bem distribuída.
 - B) vem sofrendo sérios problemas ligados à migração intra-urbana.
 - C) pouco a pouco vem-se ruralizando.
 - D) apresenta forte densidade demográfica urbana na região centro-sul.
 - E) apresenta intensa urbanização concentrada na região da capital.
- 48 O Oriente Médio é palco da mais radical violência, onde os conflitos econômicos (posse do petróleo) se alternam com as rivalidades étnicas, culturais e religiosas. Destacam-se atualmente a (s)
- A) questões iraniana e palestina, comunização vietnamita, conflito árabe-israelense e lutas Irã x Iraque.
 - B) questões iraniana e israelense, guerrilhas salvadorenhas, lutas entre Irã e Israel.
 - C) questão palestina, revolução iraniana, guerra do Líbano, conflito árabe-israelense e as lutas Irã x Iraque.
 - D) lutas entre Irã x Iraque, questão das Ilhas Falklands, problema palestino e revolução iraniana.
 - E) questões polonesa e palestina, revolução iraniana, lutas entre Irã x Israel, conflitos árabes e libaneses.
- 49 Nos EEUU, um agricultor é capaz de produzir alimentação para 50 pessoas (essa média é de 20 na França e 10 na URSS). Tal fato liga-se a (ao)
- A) alta produtividade no trabalho, fruto da mecanização avançada aliada ao uso de moderna tecnologia.
 - B) predomínio de excelentes condições de solo em todo o território.
 - C) política agrária protecionista mantida pelo governo.
 - D) inexistência de latifúndios improdutivos.
 - E) prática tradicional da agricultura irrigada.

- 50 O mundo de hoje vive marcado por guerra, revoluções... Recentemente, duas nações se envolveram pela posse das Ilhas Malvinas. Trata-se
- A) dos EEUU e El Salvador. B) da Inglaterra e Argentina.
 C) da Polônia e URSS. D) do Líbano e Irã.
 E) de Israel e Líbano.
- 51 A França é considerada a mais importante nação agrícola da Europa Ocidental, pela variedade e quantidade dos produtos cultivados, destacando-se
- A) café, arroz, beterraba e uva. B) girassol, arroz, batata e beterraba.
 C) arroz, cacau, batata e cereais. D) cereais, beterraba, batata e uva
 E) sisal, cacau, batata e sorgo.
- 52 Nos EEUU, a região que se estende desde a planície dos Grandes Lagos até as Rochosas, constituindo-se numa área agrícola sob o domínio dos "belts", é o
- A) Nordeste. B) Oeste. C) Sul. D) Leste. E) Centro-Norte.
- 53 A porção européia da URSS é mais povoada e mais produtiva do que a asiática. Explica-se tal fato
- A) em razão da proximidade com os países desenvolvidos da Europa.
 B) em função de o planejamento estatal beneficiar esta região em detrimento das demais.
 C) pela preferência da população em habitar as regiões de clima menos rude.
 D) pelas diferentes condições geográficas e históricas de povoamento.
 E) pela presença de Moscou, seu grande centro industrial.
- 54 Na URSS, 93% dos agricultores trabalham em terras que, apesar de pertencerem ao Estado, são administradas por cooperativa. Trata-se dos (das)
- A) Sovkhozes. B) Kolkhozes. C) Comunas. D) Mochav. E) Mochav-ovdim.
- 55 As maiores dificuldades da China decorrem do fato de ser um populoso país, destacando-se entre elas a (o, os)
- A) irregular distribuição populacional, as questões sociais e o problema alimentar.
 B) baixíssima densidade demográfica, a instabilidade política e as altas taxas de analfabetismo.
 C) desemprego, o desprestígio da política externa e o problema racial.
 D) "apartheid" e as altas taxas de mortalidade, natalidade e analfabetismo.
 E) sérios conflitos entre duas gerações: uma, industrial e americanizada; outra, cultuando valores estáticos.

00000000000000000000000000000000