

COPERVE

CONCURSO VESTIBULAR

82

prova de estudos sociais

--	--	--	--	--	--	--	--	--	--

INSCRIÇÃO

ASSINATURA DO CANDIDATO

UNIVERSIDADE FEDERAL DA PARAÍBA
UNIVERSIDADE REGIONAL DO NORDESTE
INSTITUTOS PARAIBANOS DE EDUCAÇÃO

Número de páginas: 16

Duração: 3^h30^{min}

A T E N Ç Ã O!

No desenvolvimento das questões subjetivas, procure:

- apresentar letra legível
- obedecer, rigorosamente, à determinação do número de linhas destinadas a cada questão.
- utilizar, se julgar necessário, a contracapa da “Folha de Resposta”, como borrão.
- observar a correção da linguagem, a clareza e a logicidade das idéias apresentadas.

Para as questões objetivas, perfure a alternativa correta, no Cartão-Resposta.

G E O G R A F I A G E R A L E D O B R A S I L

Parte subjetiva com 2(duas) questões. (Responda na “Folha de Resposta”)

1.^a Questão (Responda no Espaço 1 da “Folha de Resposta”)

A população brasileira acha-se irregularmente distribuída pelo território nacional, provocando a ocorrência de áreas de grande concentração demográfica em oposição a verdadeiros desertos humanos.

- Identifique estes contrastes e os fatores que os explicam.

2.^a Questão (Responda no Espaço 2 da “Folha de Resposta”)

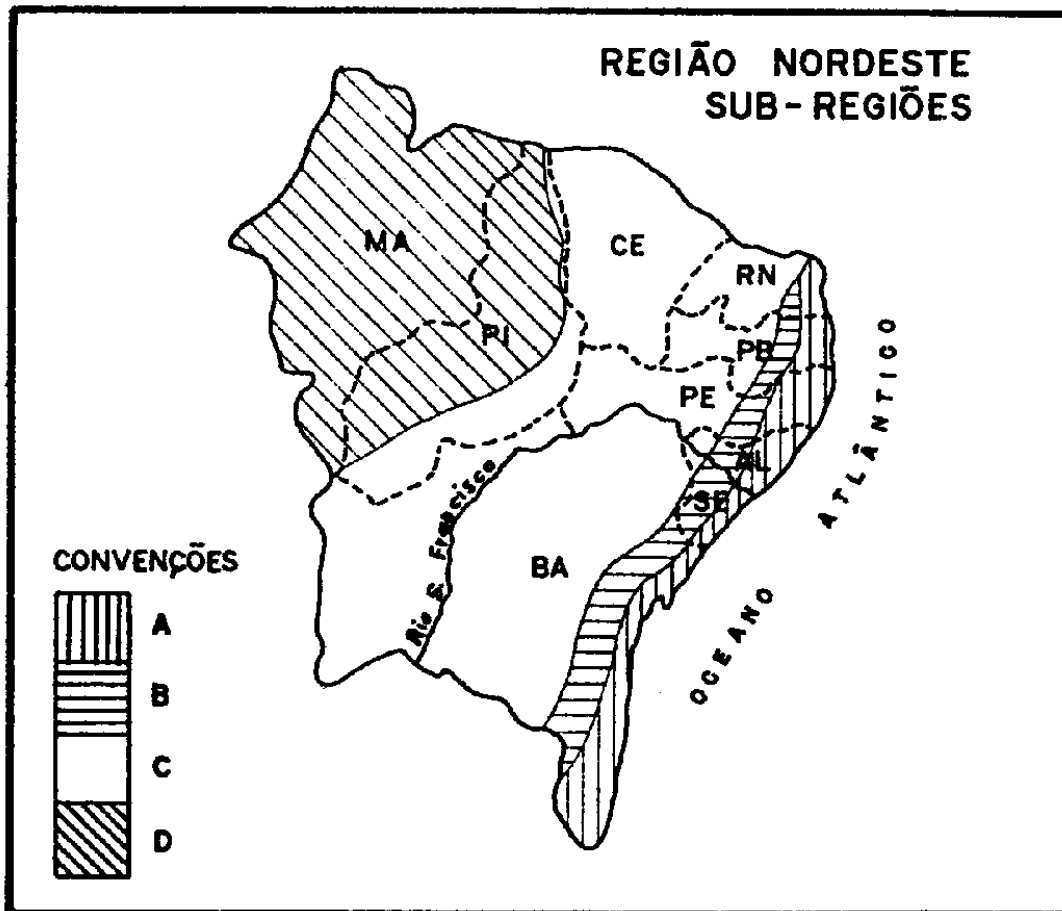
O processo de industrialização atinge de forma desigual as regiões brasileiras, resultando numa forte concentração industrial no Sudeste, com destaque para o estado de São Paulo.

- Relacione os fatores responsáveis por este fenômeno

Questões objetivas de 01 a 18. (Utilize o Cartão-Resposta)

- 01** Dentre as razões que explicam a elevada imobilidade da população brasileira, destaca-se
- a) a estagnação econômica de certas áreas.
 - b) a superpopulação da região Sudeste.
 - c) a subdivisão do estado de Mato Grosso.
 - d) o desenvolvimento agrícola da região Sul.
 - e) a carência de mão-de-obra no meio urbano.
- 02** Na composição etária da população brasileira, verifica-se que mais da metade
- a) dedica-se a atividades primárias.
 - b) constitui a chamada população ativa.
 - c) é formada por jovens.
 - d) concentra-se no meio urbano.
 - e) é constituída por analfabetos.
- 03** Analisando-se as características da estrutura fundiária brasileira, verifica-se que
- a) a maior porcentagem dos estabelecimentos situa-se na categoria de médias propriedades.
 - b) a maior parte dos proprietários concentra parcela considerável da superfície total dos estabelecimentos.
 - c) parcela considerável da força de trabalho rural (mais de 50%) concentra-se nas grandes propriedades.
 - d) a crescente mecanização dos minifúndios indica uma melhoria das condições sociais dos pequenos proprietários.
 - e) uma parcela mínima de proprietários possui elevada porcentagem da superfície total dos estabelecimentos.
- 04** Qual a região brasileira onde predominam os campos cerrados, sujeitos a um clima tropical típico, tendo na pecuária extensiva sua principal atividade econômica ?
- a) Norte
 - b) Centro-oeste
 - c) Nordeste
 - d) Sul
 - e) Sudeste

- 05 As áreas campestres foram colonizadas pelo elemento luso-brasileiro e as áreas florestais foram povoadas, a partir do século XIX, pelo imigrante estrangeiro e seus descendentes. Tal afirmativa refere-se
- a) ao Planalto Paulista
 - b) ao Norte do Paraná
 - c) à região Sul
 - d) à região Centro-oeste
 - e) ao Triângulo Mineiro



As questões de números 6 a 9 referem-se ao mapa acima.

- 06 Qual a característica COMUM às regiões indicadas pelas letras A e B?
- a) Prática da policultura associada à criação de gado.
 - b) Cobertura vegetal caracterizada pela floresta tropical.
 - c) Estrutura geológica sedimentar.
 - d) Elevada densidade demográfica.
 - e) Ocorrência de clima quente e úmido.

- 07 Na região indicada pela letra C prevalecem os seguintes aspectos físicos:
- vegetação de cerrado, rios temporários, clima tropical típico.
 - planaltos sedimentares, solos rasos, carnaubais.
 - solos profundos, clima semi-úmido, rios temporários.
 - clima semi-árido, rios perenes, solos profundos.
 - chuvas escassas, vegetação de caatinga, solos rasos.
- 08 A região indicada pela letra D tem por base econômica
- a policultura associada à criação de gado.
 - a grande lavoura de exportação.
 - a exploração de recursos minerais.
 - o extrativismo vegetal e a rizicultura.
 - a agricultura de subsistência associada à pecuária.
- 09 Na região indicada pela letra A,
- predominam pequenas e médias propriedades.
 - predomina a grande lavoura de exportação.
 - as condições de semi-aridez são acentuadas.
 - a base econômica é a extração do sal marinho.
 - se concentra a produção de gêneros alimentícios.
- 10 A região Sudeste não é uniforme sob o ponto de vista econômico. O que podemos considerar como o SUDESTE GEOECONÔMICO, isto é, a área que concentra as atividades agro-industriais mais evoluídas do Brasil,
- inclui o norte do Paraná e exclui a zona semi-árida do norte de Minas Gerais.
 - inclui todo o estado do Paraná.
 - considera apenas o estado de São Paulo.
 - exclui a zona semi-árida do norte de Minas Gerais e inclui o Mato Grosso do Sul.
 - considera apenas o estado de São Paulo e o sul de Minas Gerais.
- 11 Até 1922, era um país agrícola, exportador de café, cacau e gado. Com a descoberta de suas imensas jazidas petrolíferas sofreu uma verdadeira revolução econômica. Tal descrição refere-se
- à Venezuela.
 - à Argentina.
 - ao Brasil.
 - ao México.
 - à República Sul-Africana.

- 12 Além de concentrar as mais altas densidades demográficas da Argentina, esta região, pelas suas excepcionais condições geográficas, assegura alta produtividade agrícola. Tal afirmativa refere-se à região
- a) Patagônica b) da Mesopotâmia c) do Chaco
d) Pampeana e) Andina
- 13 A composição da população dos países latino-americanos é bastante heterogênea. Assim, Argentina e Venezuela apresentam, respectivamente, uma população
- a) mestiça e indígena b) indígena e negra c) branca e mestiça
d) mestiça e branca e) branca e negra
- 14 Na agro-pecuária dos EEUU, destaca-se a criação de gado bovino. As áreas mais favoráveis a esta atividade são as
- a) Montanhas Rochosas.
b) regiões dos Grandes Lagos.
c) regiões do litoral atlântico.
d) regiões apalacheanas.
e) Grandes Planícies.
- 15 A região de maior importância dos EEUU que se destaca pela antiguidade do seu povoamento, condições naturais favoráveis, evoluído sistema de transportes, rede de grandes cidades constituindo poderoso mercado de consumo, é o(a)
- a) Nordeste e sul dos Grandes Lagos.
b) costa do Golfo do México.
c) costa do Pacífico.
d) área de Los Angeles e San Francisco, na Califórnia.
e) área do Cotton Belt.
- 16 Sucessivas ondas de violência provocadas por razões políticas, econômicas e religiosas têm ocorrido no Reino Unido, entre a Inglaterra e a província da (o)
- a) Irlanda do Sul ou Eire.
b) Irlanda do Norte.
c) Escócia.
d) Commonwealth.
e) País de Gales.

- 17 A atual expansão econômica francesa deve-se sobretudo à criação da(o)
- a) Associação Européia de Livre Comércio (AELC).
 - b) Conselho de Assistência Econômica Mútua (COMECOM).
 - c) Comunidade Econômica Européia ou Mercado Comum Europeu (MCE).
 - d) Mercado Comum Centro Americano (MCCA).
 - e) Associação Latino-Americana de Livre Comércio (ALALC).
- 18 Sua agricultura obedece ao sistema socialista que compreende empreendimentos estatais e cooperativas, onde a produção é garantida pelos colchozes e solvecozes. Tal afirmativa refere-se a
- a) China Socialista
 - b) Polônia
 - c) Tchecoslováquia
 - d) Alemanha Oriental
 - e) URSS

O S P B

Questões objetivas de 19 a 28. (Utilize o Cartão-Resposta)

- 19 Dentre as alternativas abaixo, identifique aquela que caracteriza a classe social do indivíduo:
- a) residência fixada em áreas urbanas nobres.
 - b) capacidade de maior ou menor liderança.
 - c) habilitação profissional em grau universitário.
 - d) elevado nível cultural
 - e) renda econômica.
- 20 A política de cooperação econômico-social adotada pelo Brasil, em relação aos países latino-americanos, visa
- a) firmar acordos nucleares, a fim de assegurar, exclusivamente, a paz no continente americano.
 - b) administrar, prioritariamente, programas de assistência à pobreza, com vistas à superação da miséria.
 - c) promover uma integração econômica, técnica e cultural, objetivando o desenvolvimento solidário do continente.
 - d) intervir nos conflitos políticos desencadeados em cada país, como meio de assegurar a hegemonia política brasileira.
 - e) restringir e controlar zonas agrícolas, tendo por fim o desenvolvimento harmônico da América Latina.

- 21 Segundo a revista "ISTO É", de 26.8.81, o número de sindicatos, a partir de 1974, cresceu de 3.800 para os atuais 4.600. Esse crescimento, deve-se, em parte, à expansão dos sindicatos rurais que, no mesmo período, saltaram de pouco mais de 1.600 para quase 2.200, um avanço aproximado de 43%.
A maioria desses sindicatos surgiu em consequência da(o)

- a) plena conquista da autonomia sindical, a qual consolidou o sindicalismo brasileiro, eliminando todos os desvios dos sindicatos considerados acomodados.
- b) conscientização das dificuldades sócio-econômicas que marcam a vida do trabalhador rural e da influência que a Igreja tem exercido no campo, através das Comunidades Eclesiais de Base.
- c) desenvolvimento da negociação direta e irrestrita com os empresários, o que assegurou a estabilidade no emprego e uma política salarial condizente com o atendimento das necessidades vitais do trabalhador.
- d) interesse político e econômico do governo em atender todas as reivindicações dos trabalhadores rurais e modificar o atual modelo econômico.
- e) superação dos obstáculos de correntes políticas e doutrinárias opostas, adotadas por parcelas do movimento sindical, resultando na organização de uma prática sindical unificada.

- 22 Ao lado de outros problemas sociais, o desemprego no setor industrial constitui, hoje, no Brasil, uma situação dramática que tem afetado milhões de brasileiros. Esse fato se deve

- a) à existência de um quadro de recessão que envolve determinados setores econômicos, provocando a queda dos níveis de produção.
- b) à preferência pelo exercício de atividades profissionais autônomas, sem vínculo empregatício.
- c) aos baixos salários pagos pelo empregador que não propiciam ao trabalhador maior poder aquisitivo.
- d) à população economicamente ativa que, do ponto de vista quantitativo, é inferior à necessidade de absorção de mão-de-obra.
- e) à dificuldade de locomoção resultante das sucessivas elevações do preço das passagens de transportes coletivos.

- 23 A educação profissionalizante tem sido, na prática, difícil de ser concretizada. Essa dificuldade é explicada pela(o)
- a) solução de todos os problemas que ocasionavam a evasão escolar e a repetência, permitindo, portanto, a elevada demanda dos cursos profissionalizantes.
 - b) insuficiência de recursos financeiros e reduzida quantidade de colégios com equipamentos adequados e pelo limitado número de professores especializados.
 - c) grande maioria dos colégios existentes nos centros urbanos, os quais estimulam seus alunos a uma opção profissional, imediata e rentável.
 - d) crescimento qualitativo do ensino superior e pelo concurso vestibular classificatório, fatores que desestimulam a concorrência, motivando a procura de cursos profissionalizantes.
 - e) êxito absoluto de sua implementação, o que evitou a excessiva formação de profissionais liberais e ampliou numericamente técnicos de nível médio.
- 24 Nas eleições de 1982, os eleitores poderão escolher candidatos do PT, PDT, PP, PDS, PMDB ou PTB. O pluripartidarismo representa, portanto, um canal de expressão mais eficaz, enquanto
- a) consolida, no país, uma participação política autêntica, vez que elimina divergências político-doutrinárias.
 - b) assegura a predominância dos interesses de um grupo, sem prejuízo da satisfação dos anseios de todos os demais segmentos sociais.
 - c) garante a liberdade de opção política e maior possibilidade de alternância no poder.
 - d) regulamenta o direito de votar e ser votado, como meio de viabilizar o exercício da cidadania.
 - e) preserva a legitimidade das eleições, resguardando-as da influência ou abuso do poder econômico.
- 25 Os direitos fundamentais do cidadão, consagrados pela Constituição da República Federativa do Brasil, em vigor, entre outros, são: liberdade, igualdade e propriedade.
- Dentre as alternativas abaixo, identifique aquela que caracteriza um desses direitos.
- a) O acusado tem garantida ampla defesa, exceto aquele que for preso em flagrante delito, ou por ordem escrita da autoridade competente.
 - b) O estrangeiro, residente no País, não pode ser expulso por crime cometido contra a Segurança Nacional.
 - c) Todos os brasileiros, sem exceção, têm o direito de escolher os seus representantes junto ao Poder Legislativo.
 - d) A lei não discrimina ninguém e por isso respeita a distinção de sexo, raça, trabalho, credo religioso e convicções políticas.
 - e) Aos crentes é assegurado o exercício de cultos religiosos, independentemente dos princípios que regulam a ordem pública e os bons costumes.

- 26 Os Censos Demográficos de 1970 e de 1980 revelaram a superioridade numérica da população urbana sobre a rural.
Esse fenômeno explica-se
- a) unicamente, pelo rápido processo de urbanização, associado ao crescimento industrial ocorrido no País.
 - b) pelo crescimento do setor de serviços nas grandes capitais brasileiras.
 - c) pelo programa nacional de expansão das vias de comunicação brasileira.
 - d) pelo fenômeno de atração exercido pelas cidades e desestímulo às condições de trabalho e de sobrevivência do meio rural.
 - e) pelo baixo índice de crescimento da natalidade entre famílias do meio rural.
- 27 Entre as nações latino-americanas, o Brasil se posiciona como um dos países que já alcançou um elevado estágio de desenvolvimento. Todavia, dificuldades ainda persistem.
Dentre os problemas nacionais abaixo, qual o que se apresenta com maior índice de gravidade ?
- a) A carência de rodovias na Região Amazônica que, cortada por grandes rios, dificulta o desenvolvimento do sistema viário, obstaculando sua integração nacional.
 - b) A estrutura agrária da Região Nordeste, baseada no latifúndio, cuja predominância se constata na região da mata.
 - c) A poluição do meio ambiente de várias cidades da Região Sudeste, o que constitui motivo de constante preocupação para o Governo Central.
 - d) A ocorrência de geadas na Região Sul, a qual prejudica a agricultura, base econômica do seu desenvolvimento.
 - e) A existência de desequilíbrios interregionais que representa um obstáculo à integração econômica do povo brasileiro.
- 28 O Brasil é um República Federativa que atribui ao Governo Federal um maior grau de poder e de competência. Todavia, é garantida a autonomia dos Estados a qual se expressa através
- a) de princípios que determinam o tempo de duração dos seus mandatos eletivos.
 - b) da competência de as Assembléias estabelecerem as relações com os Estados estrangeiros, podendo com eles celebrar diretamente tratados e convenções.
 - c) de leis estaduais que estabelecem a forma de investidura nos cargos eletivos.
 - d) da faculdade de fixar o número de deputados à Assembléia Legislativa.
 - e) das Constituições e leis que forem adotadas, respeitados os princípios estabelecidos pela Constituição Federal.

HISTÓRIA GERAL E DO BRASIL

Questões objetivas de 29 a 48. (Utilize o Cartão-Resposta)

- 29 Considerando as influências das condições naturais comuns ao Egito e à Mesopotâmia, pode-se concluir que as civilizações, ali desenvolvidas, surgiram
- a) em espaços marítimos que possibilitaram a formação de talassocracias.
 - b) em locais onde a vegetação e a hidrografia ofereciam, como únicos recursos de subsistência, a caça, a pesca e a coleta.
 - c) onde existiam áreas "entre rios", propícias a uma economia agrícola voltada para o comércio.
 - d) nas margens de rios próximos a desertos que garantiam a defesa das fronteiras contra invasões nômades.
 - e) onde a fertilização do solo se apresentou em condições de aproveitamento coletivo por meio de técnicas rudimentares.

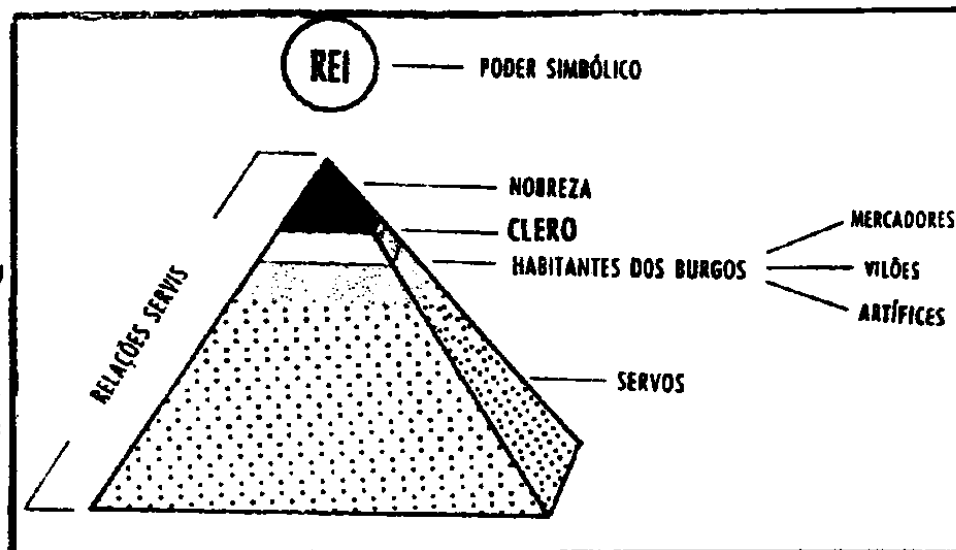
30 Sobre o legado cultural de Roma, pode-se afirmar que

- 1 — o latim deu origem às línguas românicas da Europa Ocidental.
- 2 — o Direito Romano considerava unicamente o princípio conhecido por "lex talionis", ou seja, olho por olho, dente por dente.
- 3 — o regime democrático funcionou com perfeição, na fase republicana, e foi adotado por todos os povos do ocidente europeu.
- 4 — a matemática se desenvolveu, enormemente, a exemplo da invenção da álgebra e numeração sexagesimal.

Está(ão) correta(s) a(s) afirmativa(s):

- a) 1 b) 2 c) 3 d) 1 e 2 e) 3 e 4

- 31 A pirâmide, ao lado, poderá ser utilizada para identificar a estratificação social em vigor, durante



MARQUES, A.M e FARIA, R.M, Nova História, 3.^a ed., SP., LÊ, 1979, p. 45

- a) a helenização do Oriente, iniciada por Alexandre Magno.
- b) a fase de crises dos séculos III e IV d.C., no Império Romano.
- c) a dominação romana na Península Ibérica.
- d) o sistema feudal na Baixa Idade Média.
- e) o início das migrações germânicas pelo Ocidente Europeu.

32

"Dei meu ouro e recebi o bispado, mas confio recebê-lo de volta, se souber como proceder. Para ordenar um padre cobrarei em ouro; para ordenar um diácono, cobrarei um monte de prata (. . .) Paguei bom ouro, mas hei de recheiar a bolsa."

FREMANTLA, A. A Idade da Fé, José Olympio, p. 38

De acordo com a leitura do texto acima, atribuído a um Bispo do século IX, pode-se concluir que

- a) a Igreja, sendo antilatifundiária, autorizava a "venda dos Sacramentos" para garantir a sobrevivência dos clérigos.
- b) os papas medievais institucionalizaram o justo preço para regulamentar a prestação de serviços eclesiais.
- c) a despeito das concepções comunitárias da Igreja, muitos religiosos agiam sem nenhum espírito cristão, acumulando fortunas em proveito pessoal.
- d) o teocentrismo feudal entendia o enriquecimento como um sinal de salvação, identificando-se desta forma, com as idéias de Calvino.
- e) os Bispos medievais, embora fizessen votos de pobreza, recebiam donativos que revertiam para as obras pias e caridosas.

- 33 O sistema colonial estabelecido, no Brasil, tinha por base
- a) a monocultura, o minifúndio e o trabalho escravo.
 - b) a policultura, o latifúndio e o trabalho assalariado.
 - c) a monocultura, o latifúndio e o trabalho escravo.
 - d) a policultura, o minifúndio e o trabalho assalariado.
 - e) a monocultura, o latifúndio e o trabalho assalariado.
- 34 Identifique, entre as afirmativas abaixo, a que NÃO dimensiona corretamente a situação da mulher na sociedade colonial brasileira:
- a) as índias escapavam dos abusos sexuais e da condição de concubinas dos colonos, porque estes respeitavam as tradições e costumes das tribos.
 - b) as brancas desempenhavam as funções de esposa e mãe dos filhos legítimos dos senhores escravocratas.
 - c) as relações amorosas entre brancos e negras eram marcadas por vários níveis de violência, usando aqueles de sua condição social para subjugar-las.
 - d) as jovens da sociedade colonial, submissas ao poder patriarcal, passavam, através do casamento, ao domínio do marido.
 - e) as escravas africanas, além de cumprirem suas obrigações impostas pela ordem escravocrata, eram freqüentemente utilizadas como amas de leite para os filhos dos senhores.
- 35 O absolutismo francês e inglês apresentou evolução semelhante.
- Uma das afirmativas, abaixo, NÃO constitui característica comum a ambos.
- a) Os reis governavam com base no direito divino ou porque o próprio povo lhes outorgara o poder absoluto.
 - b) Existia uma estreita relação entre o fortalecimento monárquico e o mercantilismo, considerado como uma política econômica a serviço do Estado.
 - c) Os monarcas, quase sempre, contavam com o apoio da burguesia interessada na uniformização administrativa, monetária e legislativa dos reinos.
 - d) Durante a luta pela centralização real, surgiram conflitos e perseguições de caráter religioso, que mudavam de direção segundo a fé abraçada pelo soberano.
 - e) O poder real foi substituído em decorrência de movimento revolucionário, verificado no século XVIII, que culminou com a extinção do próprio regime monárquico.

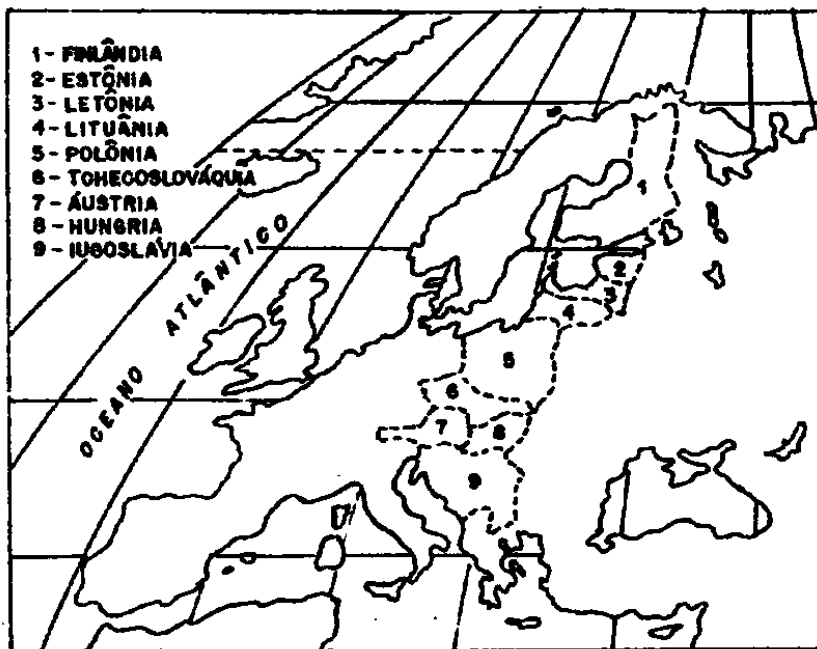
- 36 A religião reformada, que mais encontrou apoio da burguesia e serviu ao desenvolvimento do capitalismo, foi o
- | | | |
|---------------------|---------------|-----------------|
| a) Luteranismo | b) Calvinismo | c) Anglicanismo |
| d) Presbiterianismo | e) Anabatismo | |
- 37 A Independência política do Brasil não se fez acompanhar da independência econômica. Neste sentido, pode-se afirmar que, durante o Primeiro Reinado, ocorreu
- um amplo domínio da Inglaterra devido à assinatura de tratados comerciais.
 - uma série de agitações e revoluções, responsáveis pela persistência do sistema econômico colonial.
 - a transformação da estrutura social, já que se verificou a substituição da mão-de-obra escrava pela assalariada.
 - a penetração do imperialismo norte-americano que, praticamente, neocolonizou o Brasil.
 - um novo desequilíbrio financeiro, obrigando o governo a adotar um segundo “funding-loan”, isto é, negociação da dívida externa.
- 38 A Abolição da escravatura acarretou efeitos de profundo significado social, como
- o surgimento do poder dos senhores de engenho.
 - o desaparecimento do preconceito racial, no Brasil.
 - a diminuição da imigração européia, na região Sudeste.
 - a supressão do trabalho assalariado, nas fazendas de café.
 - a marginalização do ex-escravo, na sociedade brasileira.
- 39 A Revolução Industrial não só ampliou a esfera dos grandes empreendimentos comerciais, como também se estendeu aos domínios da produção, ao
- 1 — viabilizar a mecanização da indústria e da agricultura.
 - 2 — possibilitar a utilização de metais resistentes na confecção de armas, utensílios e jóias.
 - 3 — desencadear associações de profissionais em corporações de ofício.
 - 4 — promover o aceleramento dos transportes e das comunicações.

Estão corretas as afirmativas:

- | | | | | |
|----------|----------|----------|----------|----------|
| a) 3 e 4 | b) 2 e 3 | c) 1 e 2 | d) 1 e 4 | e) 2 e 4 |
|----------|----------|----------|----------|----------|

- 40 Com o desenvolvimento capitalista da economia cafeeira, foram criadas, no Centro-Sul, circunstâncias favoráveis à
- movimentação de imigrantes para o Nordeste açucareiro.
 - substituição da rede ferroviária pelas vias rodoviárias.
 - planificação racional das áreas produtivas.
 - ampliação da produção manufatureira e industrial.
 - manutenção de uma estrutura social com base na mão-de-obra escrava.
- 41 *“... a Política dos Governadores criou mecanismos para assegurar o domínio das oligarquias nos Estados. Agindo assim, contribuiu para o término dos conflitos no interior do Congresso Federal, desde que eram eleitas sempre bancadas situacionistas...”*
- SILVEIRA, Rosa Maria Godoy, Republicanismo e Federalismo 1889-1902, Brasília, Senado Federal/Ed. Universitária UFPB, 1978, p. 173.
- Pelo exposto, percebe-se que, durante a República Velha, a chamada “Política dos Governadores”,
- permitiu uma maior participação de elementos de oposição, no Poder Legislativo.
 - forçou uma maior intervenção do Presidente da República, no Congresso Federal.
 - possibilitou a extinção de grupos oligárquicos, em todos os Estados brasileiros.
 - direcionou a liderança do Congresso a uma união com o Executivo Federal.
 - conduziu a política nacional a choques antagônicos entre as esferas Legislativa e Executiva.
- 42 Pode-se afirmar que um dos efeitos da Primeira Guerra Mundial, sobre os setores econômicos da vida brasileira, foi
- o controle estatal sobre grandes empresas estrangeiras que concorriam com as nacionais.
 - o impulso da industrialização provocado pelas dificuldades de importação.
 - a adoção do encilhamento, política financeira, que visava à expansão industrial.
 - a redução do número de estabelecimentos industriais, face ao deslocamento de capitais e mão-de-obra para o Nordeste algodoeiro.
 - o reforço da dependência econômica à Grã-Bretanha que reafirmara a sua supremacia sobre o “Terceiro Mundo”.

- 43 O mapa ao lado, põe em destaque os países que surgiram no continente europeu, em decorrência



- a) do Congresso de Viena realizado, entre 1814-1815.
b) da 1.^a Grande Guerra ocorrida, entre 1914-1918.
c) do estabelecimento da URSS, em 1922.
d) da 2.^a Guerra Mundial ocorrida, entre 1939-1945.
e) da organização do Pacto de Varsóvia, em 1955.
- 44 A atuação econômica do Estado Novo, para dotar o país de uma indústria de base, efetivou-se através da(o)
- a) fundação do Instituto do Açúcar e do Alcool (IAA).
b) instalação da Companhia Siderúrgica Nacional, em Volta Redonda.
c) estabelecimento da PETROBRÁS.
d) construção das obras hidrelétricas de Três Marias e Furnas.
e) criação de órgãos oficiais responsáveis pelo desenvolvimento regional (SUDAN, SUDESUL, SUDENE e SUDECO).
- 45 A cultura popular brasileira, durante o Estado Novo, sofreu a influência do DIP (Departamento de Imprensa e Propaganda) que tinha, entre outros objetivos, o de
- a) difundir os ideais democráticos que orientavam a política governamental.
b) incentivar toda e qualquer manifestação artística, uma vez que não existia o patrulhamento ideológico.
c) fomentar um nacionalismo ufanista que atendia aos interesses do governo.
d) criar condições que permitissem o desenvolvimento do espírito crítico do povo brasileiro.
e) permitir que, através das manifestações artísticas, o povo externasse suas insatisfações com o regime político vigente.

46 Entre o bloco liderado pelos Estados Unidos e o bloco liderado pela União Soviética, desenvolveu-se a chamada “Guerra Fria”. Esta forma de rivalidade tornou-se, muitas vezes, ameaçadora por temer-se a sua evolução para um novo conflito mundial. Exemplifica esta situação

- a) o desenvolvimento da Guerra da Coreia, no Sudeste asiático.
- b) o “escândalo de Watergate” nos Estados Unidos, durante o governo de Nixon.
- c) o estabelecimento da República Islâmica no Irã, liderada pelo Aiatolá Khomeini.
- d) a morte de membros do IRA, na Irlanda, devido às greves de fome.
- e) o atentado à vida do Papa João Paulo II, no Vaticano.

47 O modelo econômico brasileiro posto em prática, após 1964, teve como efeito(s)

- a) o aumento das oportunidades de emprego e o término das condições de subemprego.
- b) a estabilidade econômica e melhor distribuição de rendas.
- c) o crescimento do poder aquisitivo das classes populares.
- d) a eliminação das empresas multinacionais.
- e) a elevação dos índices inflacionários e aumento da dívida externa.

48

*“Morena de Angola que leva o chocalho amarrado na canela
Será que ela mexe o chocalho ou o chocalho é que mexe com ela
(...)*

*Será, que no meio da mata, na moita, a morena inda chocalha
Será que ela não fica afoita prá’ dançar na chama da batalha
Morena de Angola que leva o chocalho amarrado na canela
Passando pelo regimento ela faz requebrar a sentinela
(...)*

*Morena de Angola que leva o chocalho amarrado na canela
Morena, bichinha danada, minha camarada do MPLA.”*

— Percebe-se que os versos, acima transcritos, do compositor Chico Buarque de Holanda, são alusivos

- a) ao erotismo das morenas angolanas que, portando chocalhos e outros adornos, preservaram os hábitos e costumes tribais.
- b) às negras angolanas que vieram para o Brasil na condição de escravas e que, geralmente, trabalhavam como domésticas nas fazendas e engenhos coloniais.
- c) à participação da mulher, em 1976, no Movimento Popular de Libertação de Angola, de Agostinho Neto, que combateu a União Nacional para a Independência Total de Angola, liderada por um ex-agente da CIA.
- d) às jovens angolanas que se integraram no comando guerrilheiro de esquerda, denominado SWAPO, que luta para tirar a Namíbia do controle sul-africano.
- e) à participação feminina angolana na luta contra as colunas blindadas de Prétória, que se lançaram numa destruidora incursão em seu solo pátrio.